

حكومة اقليم كردستان - العراق  
وزارة التربية  
الديرية العامة للمناهج والطبوعات

# المواد الإجتماعية

لصف السادس الأساس

تأليف

لجنة مشتركة في وزارة التربية إقليم كردستان

المراجعة العلمية / قسم التاريخ

د. سعدي عثمان حسين

ترجمة

شيركو احمد حويز      كمال حسين غمبار

الطبعة العاشرة      ٢٠١٦ ميلادي      ٢٧١٦ كوردي      ١٤٣٧ هجري

المشرف العلمى على الطبع والمراجعة: عمر على شريف - ويسى صالح حمدأمين  
الاشراف الفنى على الطبع: عوسمان پيرداود كواز - خالد سليم محمود  
تصميم الغلاف: ثارى محسن احمد  
التنقيح الفنى: يوسف احمد اسماعيل

# القسم الأول جغرافية العراق





خارطة جمهورية العراق  
مبيناً موقع إقليم كردستان



## جمهورية العراق الفيدرالي

لدراسة جغرافية العراق يمكن توزيعها على الفصول الآتية:

١- الفصل الاول: معلومات عامة عن العراق.

٢- الفصل الثاني: سطح العراق.

٣- الفصل الثالث: مناخ العراق.

٤- الفصل الرابع: الموارد المائية.

٥- الفصل الخامس: (النشاطات البشرية )

أ- الزراعة.

ب- الثروة الحيوانية.

ج- الثروة المعدنية.

د- الصناعة.

هـ- التجارة والنقل.

و- السياحة.



منظر طبيعي

## الفصل الأول

### حدود العراق:

يحدّها من الشمال تركيا والشرق ايران، وجنوباً الكويت والسعودية اما غرباً فيحدّها من كل سوريا والاردن.



خارطة العراق الادارية والدول المجاورة

### معلومة:

الحدود هي تلك الخطوط الحمراء المتقطعة التي تفصل بين دولة واخرى.

التركيبية الادارية للعراق:

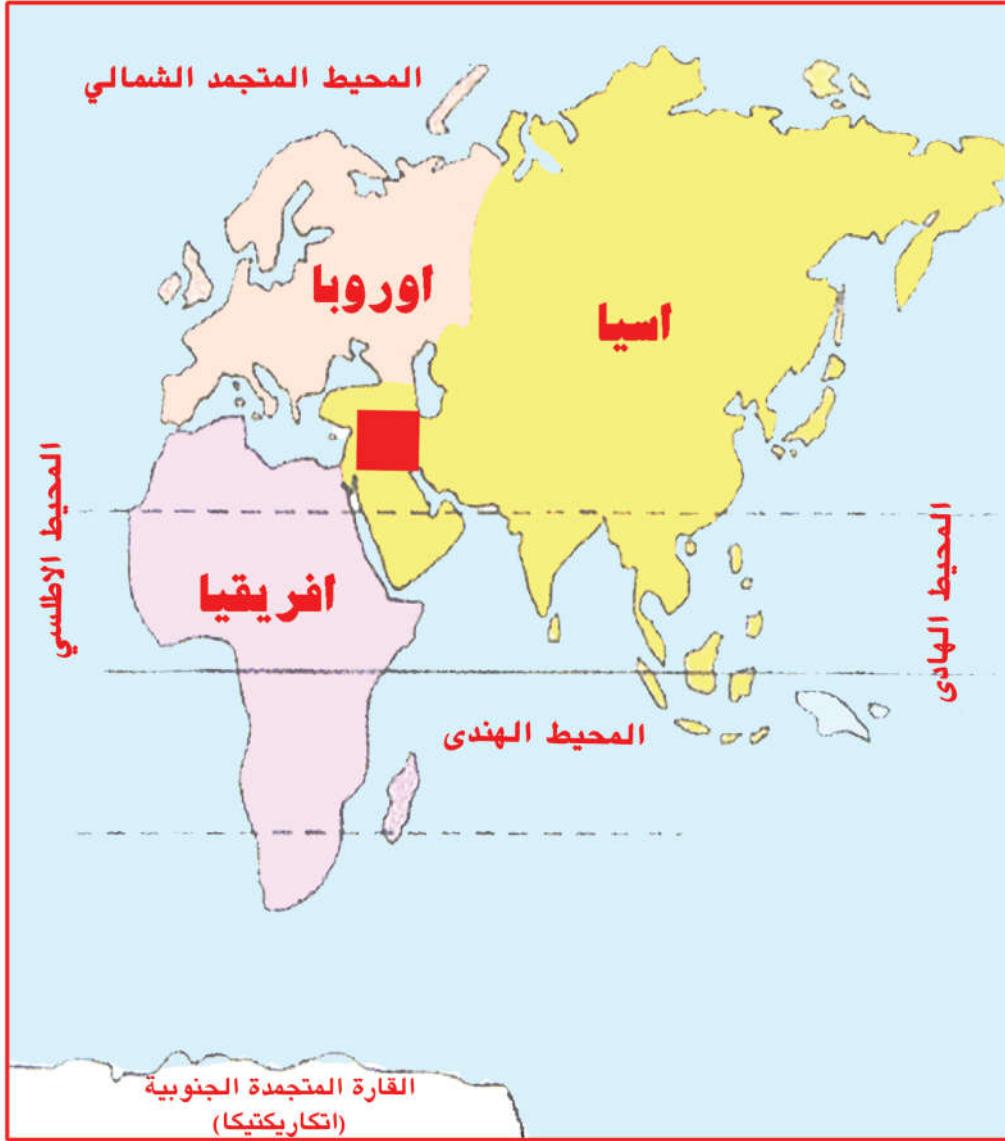
العراق دولة ذات سيادة نظامها فيدرالي تتكون من اقليمين الاول المركز حيث يضم محافظات العراق كافة عدا محافظات اقليم كردستان وعاصمة المركز هي بغداد. بينما عاصمة الاقليم هي (هولير) (اربيل). ومجموع محافظات العراق هي (١٨) ثمانية عشر محافظة.

العراق دولة نظامها  
جمهوري فيدرالي  
برلماني تأسست  
بعد الحرب العالمية  
الاولى سنة ١٩٢١م.

المحافظة:  
هي وحدة ادارية كبيرة تظم عدة وحدات  
ادارية اقل سكانا.

موقع العراق وأهميته:

يقع العراق في الجنوب الغربي لقارة آسيا، وكان لهذا الموقع الجغرافي اثره في أهميته بالنسبة للعالم القديم حيث كانت معبراً للتجارة بين الشرق والغرب. وخاصة في زمن الامبراطوريات القديمة.



خارطة موقع العراق بالنسبة للعالم القديم

### معلومة:

- ١- بلاد الرافدين (ميزوپوتاميا) يقصد بالرافدين دجلة والفرات منذ القدم كان سمي العراق بهذا الاسم.
- ٢- العالم القديم: وهي تشمل القارات الثلاث (آسيا، واوربا، وأفريقيا).

### مساحة وسكان العراق:

تبلغ مساحة العراق (٤٣٨٣١٧) كم<sup>٢</sup> ويقدر عدد سكانه بنحو (٣٦) مليون نسمة. وللعراق تركيبة سكانية متنوعة حيث يشمل القوميات والاديان المختلفة مثل العرب الكورد والتوركمان والكلدو آشوريين- واديان ومذاهب عدة غالبية سكانها من المسلمين وهناك المسيحيين والايديين وغيرهم.



بموجب الأخر احصائيات وزارة التخطيط العراقية لعام ٢٠١٤م.



## الفصل الثاني

### سطح العراق

ينقسم سطح العراق الى المناطق الاربعة التالية:

- ١- المنطقة الجبلية.
- ٢- المنطقة المتموجة (شبه الجبلية).
- ٣- منطقة السهل الرسوبي.
- ٤- منطقة الصحراء الغربية.



خارطة سطح العراق

معلومة : تقع المنطقتين الجبلية والمتموجة ضمن اقليم كردستان العراق.

## أولاً - المنطقة الجبلية:

تقع سلاسل الجبال في القسم الشمالي والشمالي الشرقي من اقليم كردستان، وتمتد من الشمال الغربي نحو الجنوب الشرقي، وتكوّن ٦٪ من مساحة العراق و ٢٥٪ من مساحة اقليم كردستان. وتتكون من سلسلتين رئيسيتين هما:

### أ- سلسلة الجبال العالية والمعقدة:

تشمل سلسلة الجبال الواقعة على حدود العراقية -التركية والعراقية الايرانية، وكلما اتجهنا نحو الشمال والشمال الشرقي تكون الجبال اكثر ارتفاعاً ووعورة وتعقيداً حيث يصل ارتفاعها الى ما بين ١٦٠٠ - ٣٦٠٠ متراً وتقع بينهما اودية عميقة وتحتضن هذه السلسلة الجبال التالية:

- الجبال الواقعة على الحدود العراقية التركية ومنها: جبل مهرنار، آشينه، سرميدان.

- الجبال الواقعة على الحدود العراقية الايرانية ومنها: جبل شاكيفا، قنديل، هورامان، حصاروست وتقع قمة هلكورد في جبل حصاروست وهي اعلى قمة جبلية في اقليم كردستان العراق حيث يبلغ ارتفاعها ٣٦٠٧ متراً فوق مستوى سطح البحر.



قمة هلكورد



## ب- سلسلة الجبال الالتوائية البسيطة:

تتميز هذه السلسلة بقلة التواءات طبقاتها الصخرية وبساطتها .

أهم جبال هذه السلاسل هي ((كاره، حرير، بهرانان، چياى سپی، ئاكرى، سفین، هبة سلطان)).



سلسلة جبل سفین

### نشاط:

ترسم على الصبورة خارطة العراق تبين فيها السلاسل الجبلية بقسميها.  
- اذكر بعض الجبال الواقعة في منطقتك.

## أهمية المنطقة الجبلية:

- ١- بسبب طبيعة المنطقة وكثرة هطول الأمطار وتساقط الثلوج أصبح مصدراً لتجميع المياه وتمويل روافد نهر دجلة.
- ٢- اعتدال مناخها في فصل الصيف وجمال طبيعتها جعلها منطقة مهمة للسياحة والاصطياف للعراق.
- ٣- كثرة المراعي الطبيعية فيها جعلتها منطقة مهمة لتربية الحيوانات.
- ٤- غنية بالمعادن مثل الفحم والحديد إضافة الى النفط والتي تم انتاجها في حقول زاخو.
- ٥- منطقة مهمة لانتاج المحاصيل الزراعية.



## ثانياً: - المناطق شبه الجبلية (المتوجة):

تشمل ١٥٪ من مساحة العراق و ٧٥٪ من مساحة إقليم كردستان وهي عبارة عن مرتفعات ( حميرين، مكحول، عطشان، ابراهيم، شنغال).

### أهمية المنطقة المتوجة:

- أ- انها منطقة خصبة لانتاج الحبوب مثل القمح والشعير.
- ب- تعتبر هذه المنطقة مراعي طبيعية مهمة لتربية الحيوانات كالغنم والماعز.
- ج- تحتوي على ثروة معدنية كبيرة وخاصة البترول والنفط الخام في كركوك و أربيل وعين زالة والموصل وكذلك الكبريت في المشراق.

### ثالثاً: - منطقة السهل الرسوبي. خصائصها:

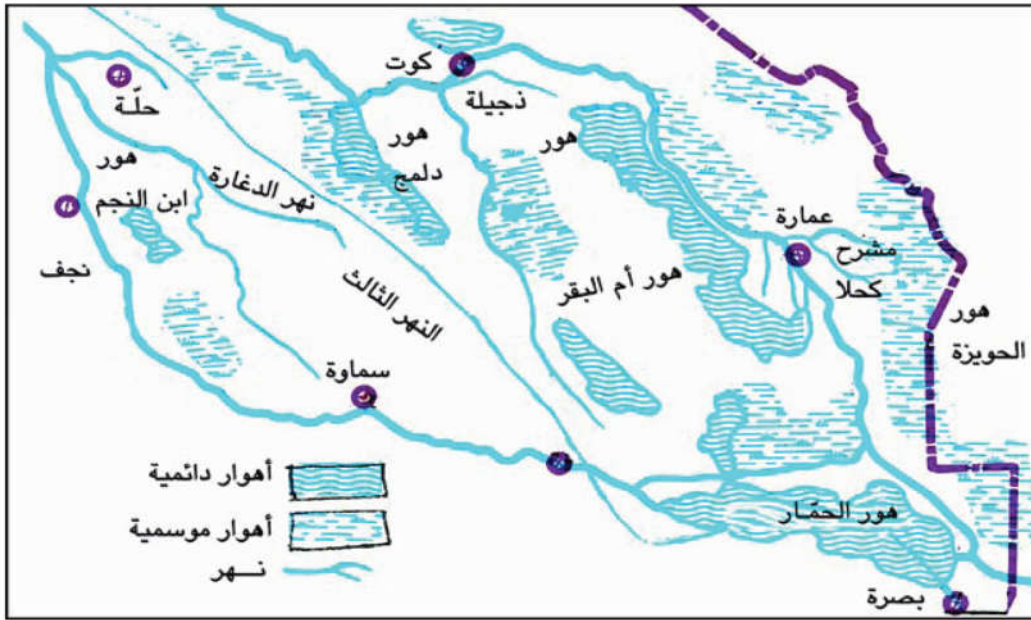
- ١- تقع هذا السهل جنوب المنطقة المتوجة تمتد من الشمال الغربي نحو الجنوب الشرقي حتى يصل الى شط العرب، ويقع بين الهضبة الغربية غرباً وجبال زاغروس شرقاً.
- ٢- تشكل هذه المنطقة ٢٤٪ من مساحة العراق الكلية.
- ٣- يحتوي السهل على عدد من المنخفضات المملوءة بالمياه وتسمى بالاهوار والمستنقعات مثل (هور الحويزة على نهر دجلة وهور الحمار على نهر الفرات)، كما في خارطة اهوار جنوب العراق.

### أهمية منطقة السهل الرسوبي:

- ١- نظراً لسعة اراضي هذه المنطقة واستواءها وغزارة مياهها فانها تعتبر منطقة زراعية مهمة وخاصة النخيل والرز.
- ٢- يعيش في هذه المنطقة معظم سكان العراق.
- ٣- تحتوي على منابع نفطية غنية وخاصة في محافظتي البصرة و ميسان.

نظراً لسعة هذه المنطقة فأنها تنقسم الى عدة اقسام وهي:

١-	٢-	٣-	٤-	٥-
هضبة الجزيرة ومنخفض الثرار	منطقة الوديان مثل وادي حوران	المنطقة الصخرية مثل منخفض السلمان	هضبة الحافات المقطوعة وفيها العديد من ألواح	منطقة الدببة



خارطة أهوار جنوب العراق

رابعاً:- منطقة الهضبة الغربية:

تقع في القسم الغربي والجنوب الغربي من العراق وتعتبر امتداداً طبيعياً لهضبة الشام وهضبة شبه الجزيرة العربية, تشكل حوالي ٥٥٪ من مساحة العراق الكلية.



## نشاط

يضم السهل الرسوبي معظم مدن العراق...  
عزيزي الطالب: املأ الفراغات باسما مدن وسط وجنوب العراق استفد  
من خارطة العراق.

	العمارة	
البصرة		



مصيف بيخال



احمدٹاوا



مصیف سرسنگ




## الفصل الثالث

### مناخ العراق

يمتاز مناخ العراق بالتطرف، ويظهر هذا التطرف والتباين في المظاهر

التالية:





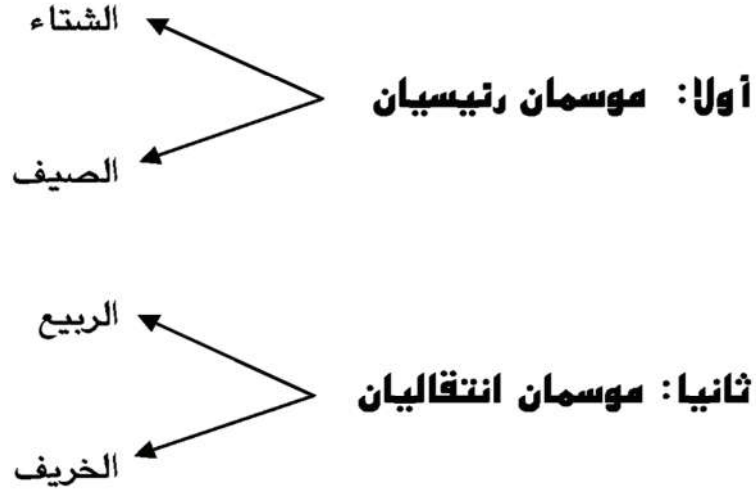


**خارطة موقع العراق بنسبة البحار والمحيطات**

**تدريب:**

عَيِّن على الخارطة البحار التي تؤثر في مناخ العراق.

في مناخ العراق تظهر المواسم الأربعة كالآتي:



### حالة المناخ

في الصيف	في الشتاء
- تكون درجات الحرارة عالية في جميع المناطق.	- تنخفض درجات الحرارة، وخاصة في المناطق الجبلية.
- التفاوت كبير بين درجات الحرارة ليلاً ونهاراً.	- التفاوت كبير بين درجات الحرارة ليلاً ونهاراً.
- ينعدم المطر وتنخفض نسبة الرطوبة.	- هطول الأمطار و (الثلج في المنطقة الجبلية)، وترتفع نسبة الرطوبة.

## الفصل الرابع الموارد المائية

### مصادر المياه في العراق:

- ١- الثلوج والأمطار.
- ٢- المياه السطحية.
- ٣- المياه الجوفية.
- ٤- المشاريع المائية - الري.

نشاط		
عزيزي الطالب: اكتب اهمية الماء في الفراغات التالية:		
٣	٢	١

نسبة تساقط المطر.	١	تتوقف كمية ونوعية (المياه) على العوامل:
نسبة سقوط الثلج في المناطق الجبلية.	٢	
الكتل الثلجية.	٣	

## المصادر المهمة للمياه في العراق:

أ- الثلوج والأمطار	ب- المياه السطحية	ج- المياه الجوفية
تعتبر مصدراً رئيسياً للمياه السطحية والجوفية. وتتجمع الثلوج بكثرة على القمم الجبلية في إقليم كردستان وتذوب في فصلي الربيع والصيف.	وتشمل مياه الأنهار والروافد والجداول والبحيرات والأهوار والبرك المائية وكمية هذه المياه مرتبطة بنسبة الأمطار والثلوج.	هي المياه المتجمعة في عمق الطبقات الصخرية، وعندما تسمح لها الظروف تخرج على شكل عيون وينابيع من خلال الشقوق الأرضية، التي يستخرجها الإنسان على شكل آبار. بعضها عبارة عن مياه معدنية حارة ولذلك يلجأ اليها الناس لمعالجة الامراض ومنها (حمام العليل) في (الموصل) والمياه المعدنية في السليمانية و أربيل ودهوك. وغالباً ما تستعمل المياه الجوفية للزراعة في الأماكن التي تقل فيها المياه السطحية مثل (عين تمر) في محافظة (كربلاء).

## أهم الأنهار والروافد في العراق:

### أنهار العراق

٢- دجلة	١- الفرات
<p>طول النهر ١٧١٨ كم وينبع من المرتفعات التركية وعند قرية فيشخابور يدخل أراضي اقليم كردستان العراق ، وتصب فيه داخل الحدود العراقية الروافد التالية:</p> <p><b>أ/ الخابور:</b> يصل الى كردستان العراق من المرتفعات التركية.</p> <p><b>ب/ الزاب الكبير:</b> ينبع من منطقة هكارى التركية.</p> <p><b>ج/ الزاب الصغير:</b> يدخل أراضي الاقليم من مرتفعاً (لاجان) شرق كردستان.</p> <p><b>د/ نهر رووخانه (العظيم):</b> كل منابعها تقع في أراضي اقليم كردستان العراق.</p> <p><b>هـ/ نهر سيروان (ديالى):</b> ينبع من جبال شرق كردستان إيران و كردستان العراق.</p>	<p>ينبع كلا رافدي نهر الفرات (فرات صو و مراد صو) من الجبال الشاهقة الواقعة في جنوب شرقي تركيا, ويلتقيان قرب مدينة كيبان ليكوّنا نهر الفرات, ومن ثم يدخل سوريا قرب مدينة جرابلس ثم يدخل العراق عند مدينة القائم (حصيبة). وتمر بمناطق الرمادي والفلوجة والهندية. وتقرب نهر الفرات عن نهر الدجلة بقرب من مدينة الفلوجة. طول النهر ٢٩٠٠ كم.</p>

### ٣- شط العرب



شط العرب

يتكون من التقاء نهري (دجلة والفرات) في (كرمة على) ويمر بمدينة البصرة, ويصب فيه من الشرق نهر (الكارون) ثم يصب في مياه الخليج العربي, ولذلك يعتبر منفذاً للعراق وطريقاً مائياً مهماً للتبادل التجاري.





خارطة الثروة المائية ومشاريع الارواء في العراق

### نشاط

عزيزي الطالب: في العراق نهران رئيسيان:

نهر دجلة و .....

هناك عدة روافد تنبع من جبال كوردستان وتصب في دجلة ومنها:

--	--	--	--	--



#### ٤- البحيرات والاهوار والمستنقعات:

الاهوار والمستنقعات	البحيرة
وهي عبارة عن مسطحات مائية تقع في جنوب العراق، مثل: هور (الحمار) وهور (الحويزة).	عبارة عن منخفض مملوء بالماء، وهي نوعان: اولها: البحيرات الطبيعية مثل بحيرة ساوة قرب السماوه. وثانيهما: البحيرات الاصطناعية مثل بحيرة الحبانية ودوكان ودرينديخان.



مستنقع



بحيرة دوكان


**سؤال:** ما هي فائدة اهور ومستنقعات جنوب العراق؟  
**جواب:** انها تصبح ميازل طبيعية ولها فوائد أخرى، ماهي؟

#### ٤- المشاريع الأروائية - الري:

- حاول الانسان ومنذ القدم تنظيم الري والاستفادة من نهري دجلة والفرات للاغراض الزراعية، وذلك لأسباب التالية:
- ١- تقع معظم الاراضي العراقية تحت تأثير المناخ الصحراوي الحار والجاف في الصيف وقلة الامطار في الشتاء.
  - ٢- كمية الامطار قليلة جداً لا يمكن الاعتماد عليها في الزراعة ماعدا اقليم كوردستان, حيث تسقط الامطار شتاءً.
  - ٣- تكرر فيضان الانهار في الربيع بحيث تصبح الاراضي الزراعية معرضة للخطر ويحدث هذا في نهر دجلة وليس في الفرات.
  - ٤- اختلاف مستوى المياه في نهر دجلة والفرات من فصل لآخر خلال السنة, ففي أثناء الفيضان تزداد كمية المياه فيهما بينما تقل هذه الكمية في فصلي الصيف والخريف ولذلك فقد أنشأت عليهما عدد من مشاريع الري للسيطرة على مياههما وتنظيمها, والمشاريع المذكورة قسمان هي:

- ١- سدة الهندية: وهي اقدم سدة على نهر الفرات, أنشأت سنة ١٩١٣ عند مدينة الهندية.
- ٢- جداول الري على نهر الفرات وتقع بين مدينة الفلوجة وسدة الهندية وتتفرع من الضفة الشرقية لنهر الفرات وتزود منطقة بغداد بالمياه مثل جداول الصقلاوية وأبو غريب واليوسفية.

- ٣- سد ديالى (الغاطس): وتقع على نهر ديالى، انشأت عام ١٩٢٨ لتزويد الجداول المتفرعة من النهر بالمياه مثل جدول الخالص وخريسان.
- ٤- سدة الكوت: وتقع على نهر دجلة عند مدينة الكوت، وهي توزع المياه بين نهري دجلة والفرات و جدول الدجيلية.
- ٥- جداول ري ميسان: تتفرع عدة جداول من نهر دجلة بالقرب من مدينة العمارة مثل جداول (البتيره) و (والمجر الصغير) و (المشرح) و(الكلاء).



سدة الكوت

- ٦- مشروع سدة الحبانية: تقع على يمين نهر الفرات جنوب شرق مدينة الرمادي وتقوم بتحويل قسم من مياه نهر الفرات في الفصل الفيضان عن طريق جدول (الورار) وايصالها الى بحيرة الحبانية.
- ٧- سد سامراء ومشروع الثرثار على نهر دجلة. يعد مشروع الثرثار من أكبر مشاريع تخزين المياه في العراق، يزود منخفض الثرثار بالمياه من سد سامراء.



خارطة مشروع سدي (الحبانية) و (الثرثار)

٨- سد حديثة: يقع على نهر الفرات شمال مدينة الحديثة.

<b>تمرين</b>	
الجواب الصحيح من المجموعة (ب) للأسئلة الواردة من المجموعة (أ).	
ب	أ
١- الفرات	١- سد سامراء
٢- ديالى	٢- سد الحبانية
٣- دجلة	٣- سد ديالى (الغاطس)
٤- العظيم	



## المشاريع الاروائية في اقليم كردستان العراق

١- سد دوكان	٢- سد دربنديخان	٣- سد حميرين	٤- سد آسكي موصل	٥- سد العظيم	٦- سد دوبز
يقع على الزباب الصغير: فوائده - لخن المياه - للسياحة - لتوليد الطاقة الكهربائية.	يقع على نهر سيروان فوائده: لتخزين المياه - لتوليد الطاقة الكهربائية.	يقع على نهر سيروان فوائده: لتخزين المياه والري.	يقع على نهر دجلة. شمال غرب مدينة الموصل.	يقع على نهر العظيم.	يقع على نهر الزباب الصغير بالقرب من ناحية دوبز (محافظة كركوك).



سد دوكان

## الفصل الخامس النشاطات البشرية

١- النشاط الزراعي.

أولا / الزراعة:

ثانيا / الثروة الحيوانية:

٢- الثروة المعدنية.

٣- النشاط الصناعي.

٤- النشاط التجاري والنقل.

أولا / التجاري:

ثانيا / النقل:

٥- النشاط السياحي.





## ١- النشاط الزراعي:

عرفت الزراعة في العراق منذ القدم, وقد انتقلت الزراعة من كوردستان الى المناطق الوسطى والجنوبية من العراق, ثم ظهرت القرى الزراعية البدائية, فقد اولت الحكومة اهتماماً كبيراً بالزراعة وفي مختلف الجوانب من مراقبة تهيئة الاسمدة الكيماوية, والبذور المحسنة, وانشاء المبازل وسحب المياه من الحقول وخاصة في وسط العراق, هذا بالاضافة الى تهيئة المستلزمات الاخرى للزراعة.

## اولاً / الزراعة:

تحتل الزراعة اليوم في العراق مكاناً مهماً في الأنشطة الاقتصادية, ويتبين ذلك جلياً من نسبة سكان القرى حيث بلغت هذه النسبة في سنة ٢٠٠١ م ٣٣٪ من نسبة سكان العراق وهم يشتغلون بالزراعة, بينما بلغت نسبة سكان المدن ٦٧٪ من سكان العراق يشتغلون بالأعمال الخدمية.

## المحاصيل الزراعية:

يمكننا القول بأن العامل الطبيعي هو المسئول الرئيسي عن زراعة جميع انواع المحاصيل الزراعية في العراق, على الرغم من ان للعامل الإنساني دور مهم في ذلك ايضاً, لان الزراعة بحاجة الى كل الإمكانيات, كما ان الغرض من زراعة المحاصيل المتنوعة يختلف, وعلى هذا الأساس بإمكاننا تقسيم المحاصيل الزراعية الى ثلاثة مجاميع وهي:

١- المحاصيل الغذائية	٢- المحاصيل الصناعية	٣- المحاصيل العلفية
----------------------	----------------------	---------------------



## ١- المحاصيل الغذائية:

ولهذا المحصول أهمية كبيرة للسكان لأنها تعتبر الغذاء الرئيسي لهم. وبسبب اختلاف درجات الحرارة من فصل لآخر، واختلاف المناخ بين المناطق الشمال وإقليم كردستان ومناطق الوسط والجنوب من العراق، يختلف التقسيم الجغرافي للمحاصيل الزراعية بحسب الفصل والمنطقة، وتنقسم المحاصيل الغذائية الى:



### أ- الحبوب:



القمح

١- الحنطة: وهي من المحاصيل الشتوية تزرع في (نهاية شهر تشرين الاول) وموعدها (نهاية شهر مايس) وتزرع بكثرة في إقليم كردستان معتمدة على مياه الامطار (الزراعة الديمية) وتعتمد في مناطق (الوسط) و (الجنوب) على مياه الامطار (الزراعة السحيية).

٢- الشعير: يأتي بعد القمح من حيث الأهمية: محصول شتوي، يختلف عن القمح فهي أكثر تحملاً للظروف المناخية القاسية كقلة الامطار وملوحة التربة... الخ.



صورة لحصاد الحنطة والشعير

٣- الرز: محصول صيفي, يحتاج الى مياه غزيرة وحرارة مرتفعة ولذلك تكثر زراعته في وسط وجنوب العراق مثل محافظات (ميسان - ذي قار) وفي كوردستان يزرع في دهوك في قضاء (أكري)، وفي السليمانية قضاء (بازيان).

٤- الذرة: محصول صيفي، وله نوعان الذرة الصفراء، والذرة البيضاء تكثر زراعته في محافظة (بابل) وفي السنوات الأخيرة أهتم بزراعة الذرة في إقليم كوردستان ونتاجها في إزدباد ومن فوائدها: تستعمل كغذاء وكلعف ولاستخراج الزيت.. الخ.

### نشاط (٧)

عزيزي الطالب: اكتب اسماء اربعة انواع من الحبوب في حقل (أ) وبيّن امام كل نوع اثنتين من فوائدهما:

أ- انواع الحبوب	ب-
١-	
٢-	
٣-	
٤-	

### ب- الخضراوات والفواكه:

الفواكه: محصول شتوي و صيفي تكون جزء مهم من غذاء السكان.				الخضراوات: تكون الخضراوات جزءاً مهماً من غذاء السكان ولذلك تزرع حول المدن الكبيرة.	
البرتقال	ليمون	ليمون	لالنكى	الحمضيات: مثل	انواعه
حامض	حلو	سندي			
تكثر الحمضيات في محافظة بغداد وديالى وكربلاء وصلاح الدين. وكذلك: العنب، والتفاح والعرموط ..... و..... و.....				الصيفية	الشتوية
				الطماطة	السبيناغ
				البامية	الباقلاء
				الخيار	الشلغم
الباذنجان	اللهاة				



**التمور:** تعتبر التمور من المحاصيل المهمة في العراق، ويصل عدد أشجار النخيل الى ٢٢ مليون نخلة. وتكثر في البصرة و بغداد وديالى ومن أهم انواع التمور الخستاوي، الزهدي، الحلاوي. الخ.



**أشجار النخيل**

## نشاط (٨)

عزيزي الطالب: هذه صور الخضراوات والفواكه , اكتب تحت كل صورة اسم المحصول وفصل زراعته.



## ٢- المحاصيل التي تدخل في الصناعة:


بالنظر للتغيرات في مختلف مجالات الحياة في العراق وخاصة في المجال الصناعي فمن الضروري الاهتمام بالمحاصيل التي تدخل كمواد أولية في الصناعة مثل:

### ١- القطن:

محصول صيفي, تكثر زراعته في المناطق الوسطى وفي اقليم كردستان وقد نجحت زراعة الاصناف المصرية الجيدة في الاقليم, ويأتي القطن بعد المحاصيل الغذائية بالدرجة الثانية, ويمكن الاستفادة منه في صناعة الغزل والنسيج واستخراج الزيوت والعلف من بذورها.

### نشاط

يستخدم القطن في المجالات التالية:



### ٢- التبغ:

محصول صيفي يزرع في اقليم كردستان وخاصة في محافظتي اربيل والسليمانية، وفي السنوات الاخيرة بدأ زراعة التبغ في التراجع وذلك بسبب عدم امكانيتها منافسة سوق التبوغ الاجنبية.



### ٣- السمسم:

من المحاصيل الزيتية يزرع صيفاً في جميع انحاء البلاد خصوصاً في المنطقة الوسطى, وتأتي محافظة واسط بالدرجة الاولى في انتاج السمسم, يدخل السمسم في صناعة الزيوت النباتية والغذائية والعلف الخاص بالطيور الزينة. ولذلك زاد الاهتمام بزراعته.

### ٤- قصب السكر:

محصول صيفي, يُزرع في محافظة ميسان (العمارة) ويدخل كمادة خام في صناعة السكر.

### ٥- البنجر:

محصول شتوي, يزرع في مناطق من اقليم كردستان يدخل في صناعة السكر.

### ٣- المحاصيل العلفية:

اهتمت الدولة بهذا النوع من المحاصيل, لانها ضرورية لتربية الحيوانات, ويعتبر الجت والبرسيم من المحاصيل العلفية المهمة.

## أهمية الزراعة في الاقتصاد العراقي:

- ١- تأمين الغذاء مثل الحبوب, الخضراوات والفواكه.
- ٢- يشكل تصدير المحاصيل الزراعية جزءاً مهماً من الدخل القومي حيث يجلب العملة الصعبة للبلاد.
- ٣- يؤمن الحصول على المواد الخام الداخلة في بعض الصناعات مثل القطن والبنجر والتبغ .... الخ.
- ٤- اعداد العلف اللازم للثروة الحيوانية.

## ثانياً: الثروة الحيوانية:

تساهم الثروة الحيوانية بدور مهم في التنمية الاقتصادية في البلاد لأنه:

يدخل كمواد الاولية في الصناعة.	يؤمن الغذاء الرئيسي لسكان البلاد.	جانب مهم من جوانب الثروة الزراعية.
--------------------------------	-----------------------------------	------------------------------------

### نشاط

الثروة الحيوانية توفر انواع عديدة من الغذاء للأنسان منها:

			اللحوم
--	--	--	--------

## تتكون الثروة الحيوانية في العراق مما يلي:

**الأغنام:** بالنظر لملائمة مناخ العراق لتربية الاغنام فانها تربي في جميع المحافظات.


ومن انواعها: الاغنام العربية, الاغنام الكوردية, والاغنام العواسية.

**الماعز:** تربي بصورة رئيسية في اقليم كردستان، كما انها تربي في وسط العراق ولكن باعداد أقل ومن أنواعها:  
الماعز الاعتيادي, والمرعزي.

## وهناك انواع أخرى من الحيوانات مثل:

الابقار والجاموس	حيوانات النقل والركوب	الدواجن والاسماك ونحل العسل
تربي في جميع مناطق العراق ومن انواعها: -الابقار الاعتيادية. -الابقار الكوردية.	تربي في جميع انحاء العراق ومنها الخيول والجمال والحمير والبغال.	تعتبر الدواجن والاسماك مصدرين مهمين للغذاء في العراق.





٤٢

## نشاط

اكتب فوائد كل حيوان في الفراغات المقابلة لاسم الحيوان:

اسم الحيوان	فوائده
١- الغنم	
٢- الماعز	
٣- الأبقار	
٤- السمك	
٥- الدجاج	

## مشاكل تربية الحيوانات في العراق:

١- عدم المعرفة	٢- قلة	٣- قلة العناية	٤- عدم التساوي بين
التامة بأهمية	العلف ورداءة	البيطريية	نسبة نمو الثروة الحيوانية
الثروة الحيوانية.	نوعيته.	للحيوان.	مع عدد السكان.

## ٢- الثروة المعدنية:

تعتبر الثروة المعدنية الدعامة الرئيسية للتطور الصناعي، وتحتوي ارض العراق ثروات معدنية هائلة، ولكن استخراجه يقتصر لحد الآن على بعض الأنواع منها:

**١- النفط:** عرف سكان العراق النفط منذ القدم، وكان النفط ولازال يلعب دوراً رئيسياً في حياة الإنسان ولهذا يعتبر شريان الحياة والتقدم.



فهو في مقدمة مصادر الطاقة استخداماً وهو مصدر رئيسي للمواد الأولية التي تدخل في صناعة جميع أنواع البتروكيمياويات ويحتل العراق مرتبة متقدمة في إنتاج النفط في العالم، حيث وصل إنتاجه في عام ١٩٧٩ حوالي ١٦٠ مليون طن، كما يحتل المرتبة الخامسة في الاحتياطي المخزون.



حقل باباگورگور في مدينة كركوك

## التوزيع الجغرافي للآبار النفط في العراق:

### ١- حقول اقليم كوردستان:

أ- الحقول الواقعة شرق نهر دجلة في محافظة كركوك وتحتوي حقول باباگورگور، چه مه بؤر و باي حسن.



ب- الحقول الواقعة غرب نهر دجلة في محافظة نينوى(الموصل) ومنها حقول عين زالة و بطمة.

ج- حقول نفط شيواشووك في طق طق.

د- الحقول الشرقية: وتشمل حقول نفطخانة قرب خانقين في محافظة ديالى.

هـ- حقول نفط تاوكى في زاخو.

## ٢- الحقول الجنوبية:

أ- حقول النفط في محافظة البصرة: عبارة عن حقول الزبير، الرميلة الجنوبية والشمالية، أرطاوي.

ب- حقول محافظة ميسان (العمارة) مثل حقول: ابو غراب، الفكّة، بازركان.



حقول النفط في العراق

**٢- الكبريت:** للكبريت أهمية اقتصادية كبيرة في عصرنا الحاضر وخاصة في الصناعة, ويقاس مدى تقدم الدول بمقدار استهلاكها للكبريت لان الكبريت يستعمل في كثير من الصناعات كصناعة الأسمدة، الزجاج، الورق، الفوسفات، الادوية والمواد البلاستيكية.. الخ.

### **مصادر الكبريت نوعان:**

أ- الكبريت المترسب تحت سطح الأرض ويوجد هذا النوع في منطقة المشراق جنوب مدينة الموصل في محافظة نينوى.

ب- من الغاز الطبيعي ويُصنَّع في معمل استخلاص الكبريت في كركوك.

**٣- الفوسفات:** وتكثر رواسبه في الهضبة الغربية بالقرب من مدينة الرطبة في منطقة عكاشات وقد تم إنشاء مجمع صناعي لتصنيع أنواع من السماد الفوسفاتي حيث ان إنتاجه له فوائد كثيرة للبلاد.

وهناك أنواع أخرى من المعادن كالمح والقيروالفحم الحجري، الحديد، الغاز الطبيعي.. الخ.

### **٣ - النشاط الصناعي:**

تنقسم الصناعة في العراق الى قسمين رئيسيين:

١- الصناعات الاستخراجية: مثل النفط والفوسفات والكبريت.

٢- الصناعات التحويلية: وهي عبارة عن تحويل المواد الخام المعدنية والنباتية والحيوانية مثل النفط الخام والقطن والصوف.

### **أهم الصناعات التحويلية هي:**

أ- الصناعات الغذائية: مثل الزيوت النباتية والسكر في ميسان والبصرة و بغداد.

ب- الصناعات الكيماوية مثل صناعة الأدوية في سامراء والصابون والورق في البصرة.

ج- الصناعات الإنشائية مثل السمنت في السليمانية وبابل والسماءة والطابوق والزجاج في الرمادي.



معمل سمنت بازيان في محافظة سليمانية

### اهم الصناعات في اقليم كردستان:

١- صناعة استخراج النفط والغاز في كركوك و أربيل و خانقين.	٢- صناعة السمنت في طاسلوجة و بازيان في محافظة السليمانية و ليلان في كركوك.	٣- صناعة التعليب والمواد الغذائية في دهوك.	٤- معمل صهر وتصنيع الحديد في أربيل.
--	--	--	-------------------------------------

## ٤ / النشاط التجاري والنقل:

### ١- التجارة:

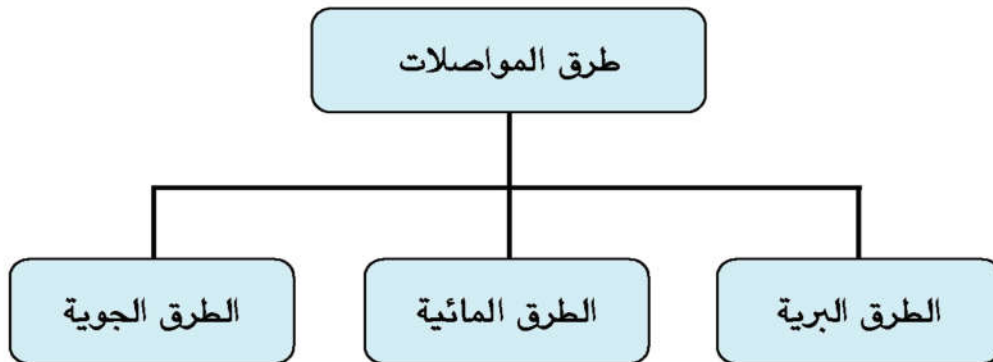
يمكن القول بأن النشاط التجاري يرتبط بمدى تقدم وسائل النقل، ولهذا فإن نمو الحجم التبادل التجاري يسير موازياً مع توفر وسائل النقل المختلفة. وكذلك فإن الأحوال التجارية مرتبطة بنمو الحالة الاقتصادية (الزراعية و الصناعية) لاية دولة، ويمكننا تقسيم التجارة الى نوعين:

١- التجارة الداخلية: وتعني بها نقل البضائع والخدمات من منطقة الى أخرى داخل البلد.

٢- التجارة الخارجية: وهي عبارة عن نقل البضائع والخدمات بين العراق والدول الأخرى او هي عملية تصدير البضائع واستيرادها، حيث يصدر العراق النفط والتمور والحبوب ... الخ. بينما يستورد المنتجات الصناعية وخاصة المكائن والادوات والسيارات اضافة الى المواد الأولية التي تتطلبها الصناعة في العراق.

### ٢- النقل:

تعتبر طرق المواصلات شرايين الحياة الاقتصادية والاجتماعية والثقافية لأي بلد من بلدان العالم.





أ- طرق السيارات.



ب- السكة الحديدية.



أ- الطرق النهرية (دجلة والفرات).  
ب- الطرق البحرية (الخليج العربي).



الطائرات



الطرق البرية

الطرق المائية

الطرق الجوية  
أهم مطارات في العراق:  
مطارات (بغداد، أربيل،  
السليمانية، النجف الأشرف)  
الدولية.



## أهم الطرق البرية في العراق:



### خارطة الطرق الرئيسية للسيارات

- ١- طريق بغداد - الموصل - دهوك - زاخو - ابراهيم الخليل.
- ٢- طريق بغداد - كركوك - اربيل - حاجي عمران.
- ٣- طريق بغداد - الكوت - العمارة - البصرة.
- ٤- طريق بغداد - كركوك - سلیمانیه.
- ٥- طريق بغداد - الرمادي - الرطبة.
- ٦- طريق بغداد - الحلة - الديوانية - السماوة - الناصرية - البصرة.

## ٥/ النشاط السياحي:

يعتبر النشاط السياحي دخلاً اقتصادياً مهماً للبلاد، هناك امكانيات السياحية الطبيعية في العراق التي تجذب اليها السياح ومن أهمها.


### ١- العوامل البشرية:

أ- يتمثل في وجود أماكن أثرية قديمة لها شهرتها المحلية والعالمية، ففي العراق واقليم كردستان توجد آثار اقدم الحضارات الانسانية مثل الآثار الموجودة في محافظات: أربيل، كركوك، بغداد، نينوى، المثنى، القادسية و آثار بابل.

ب- وجود عدد من الاماكن الدينية (مراقد الأئمة) في كربلاء والنجف و نينوى وبغداد والسليمانية.

ج- غنية بمنتجات التراث الشعبي والحرف اليدوية.

د- وجود السدود الكبرى لتخزين المياه كسد دوكان، دربندخان، الحبانية، التراث والحديثة.



صورة مرقد الإمام الحسين في كربلاء

## ٢- العوامل الطبيعية:

- أ- مناطق الاهوار والمستنقعات تعتبر مناطق طبيعية ذات مناظر خلابة تكثر فيها المياه والنباتات الطبيعية والطيور البرية.
- ب- المناطق الجبلية في اقليم كردستان:
- يمتلك اقليم كردستان امكانيات سياحية واسعة وخاصة قي مناطقها الجبلية حيث اصبحت هذه المناطق اماكن سياحية هامة تحتضن اكبر نسبة من المرافق السياحية في جميع انحاء العراق وذلك بسبب:

- ١- تنوع مناظرها الطبيعية الجميلة والخلابة من جبال ووديان وكهوف وشلالات وطرق ملتوية بين الجبال.
- ٢- المناخ المناسب حيث تنخفض درجات الحرارة صيفاً في المناطق الجبلية.
- ٣- كثرة النباتات الطبيعية في المنطقة, كما ان وجود الغابات والنباتات المختلفة زاد من جمالية المنطقة وهياتها لتصبح منطقة سياحية.
- ٤- كثرة منابع المياه في المنطقة.
- ٥- وجود اعداد كبيرة من الطيور والحيوانات البرية, هذا بالاضافة الى عدة عوامل اخرى جعلت من المنطقة الجبلية اماكن ملائمة للسياحة.





### شلال گلی علی بگ

أهم المصايف والأماكن السياحية في إقليم كردستان هي:

- ١- مصايف محافظة اربيل وهي: شقلاوه، گلی علی بگ، بیخال، جندیان.
- ٢- مصايف محافظة دهوك وهي: زاويته، سواره توكه، سرسنگ، سولاف، شرانش.
- ٣- مصايف محافظة السليمانية وهي: سرچنار، احمداوا، دوكان، دربندیخان، قرداغ و ازمر.
- ٤- الأماكن السياحية الطبيعية في كركوك وهي: قره هنجير، قره حسن، عمر گده.





جامع النبي يونس في الموصل

### أهمية السياحة:

- ١- تشكل موردا هاما للدخل القومي.
- ٢- وسيلة إعلامية جيدة لتعريف الأجانب بالبلاد.
- ٣- وسيلة للترويج عن النفس وتجديد نشاط الإنسان والحصول على فرص العمل.




لمرقد (رهبن بویا) فی قضاء شقلاوة



لمعبد (لالش) فی قضاء شیخان

**القسم الثاني**  
**تأريخ كوردستان**  
**والعراق الحديث والمعاصر**







## الفصل الأول كوردستان و الدولة العثمانية

### أ- كوردستان في بداية القرن السادس عشر:

كانت كوردستان بصورة عامة في بداية القرن السادس عشر تتكون من العديد من الإمارات الوراثة الكوردية، وكل واحدة منها كانت تحكم منطقة من هذا البلد كشبه دولة. كانت هذه الإمارات مختلفة فيما بينها من حيث السلطة و المساحة والقوة، كانت لبعضها سلطة و مساحة محدودة، في الوقت الذي كانت ثمة إمارات أخرى تضم إقليماً واسعاً، وكذلك نستطيع أن نقول أن بعض الإمارات كانت مستقلة استقلالاً تاماً، ولكن البعض الأخرى كانت تابعة اسمياً لدولة كبرى في الإقليم حيث نرى أن كوردستان في تلك الفترة كانت تحكم من قبل العديد من الإمارات منها:

بعض الإمارات الكوردية في كوردستان						
إمارة	إمارة	إمارة	حكومة	إمارة	إمارة	إمارة
موكريان	اردلان	لورستان	سوران	بهدينان	بوتان	هكاري

### تمرين

**أيها الطالب العزيز:** حاول وبمساعدة معلمك أن تكتب أسماء لبعض

الإمارات الأخرى، عدا التي ذكرت أعلاه:

١- ..... ٢- ..... ٣- .....

## ب-توسع الدولة الصفوية في كردستان:

وضع الشاه إسماعيل الصفوي في عام ١٥٠١م بنياناً لدولة جديدة في إقليم أذربايجان الإيرانية التي سميت باسم الشيخ صفي الدين الجد الأكبر للشاه إسماعيل، فعرفت (الدولة الصفوية)، بعد أن فرض سلطته على جميع إيران، طمع الشاه إسماعيل في البلدان والاقاليم المجاورة وخاصة كردستان و مناطق العراق التي كانت لها أهميتها السياسية و الاقتصادية و الدينية، تمكن خلال سنوات ١٥٠٦ - ١٥٠٨ م من احتلال القسم الأعظم من كردستان، و ذلك عن طريق القوة العسكرية من جهة واستخدام الأسلوب المرن و قطع الوعود والعهود من جهة أخرى، ولكن لم تتحقق له تلك المكاسب في كردستان بسهولة، حيث أن بعض الأمراء والزعماء الكورد وقفوا بشدة ضد هجمات الشاه إسماعيل والحقوا به خسائر كثيرة، وبالنسبة إلى مناطق العراق فان الشاه إسماعيل تمكن في عام ١٥٠٨ م من الاستيلاء على مدينة بغداد، ويسقط دولة (أق قوينلو) التي كانت عاصمتها بغداد، ثم شن الحملة نحو المناطق الجنوبية من العراق فمد سيطرته حتى مدينة البصرة.

اتبع الشاه إسماعيل ازاء الأمراء والزعماء الكورد سياسة مرنة في البداية وإبقائهم في مراكزهم، ولكن بعد تثبيت أركان حكمه أخذ فيما بعد يحاول القضاء على تلك السلطات الكوردية، لأنه كان يخاف أن يتمردوا عليه ويحاولوا الاستقلال بشؤونهم، وأدى ذلك إلى إشاعة التذمر بين الكورد وأخذوا يفكرون في اتخاذ الموقف المناسب تجاه هذه السياسة.

## ج- الصراع العثماني - الصفوي و معركة چالديران:

تكونت اماره تركية في أقصى شمال غرب الأناضول في أواخر القرن الثالث عشر الميلادي، وكان مؤسسها الجد الكبير للعائلة الحاكمة فيها هو الأمير عثمان ابن ارطغرول، ولهذا سميت بالأماره العثمانية، وبعد أن توسعت عرفت بالدولة العثمانية. أن هذه الدولة أصبحت في بداية القرن السادس عشر امبراطورية واسعة ضمت شرق أوروبا و أواسط وغرب الأناضول.



عثمان بن ارطغرل



## تمرين

- ١- طمع الشاه إسماعيل في كردستان والعراق لأنه كانت لهما أهمية ..... و ..... و .....
- ٢- احتل الشاه إسماعيل المناطق بطرقتين أولهما ..... و ثانيهما.....

## معركة چالديران:

تلك التوسعات الصفوية التي ذكرناها سابقاً خلقت تهديداً على الحدود الشرقية للدولة العثمانية. لذلك أعلن السلطان سليم الأول العثماني الحرب ضد الدولة الصفوية، وقد التقى الجيشين العثماني والصفوي في (٢٣) آب ١٥١٤ في سهل چالديران الذي يقع في الشمال الشرقي من بحيرة وان. إن الجيش العثماني الذي كان معززاً بالمدافع وكانت له قوة مشاة أكثر تنظيماً وقوة، انتصر في المعركة فنجأ الشاه إسماعيل من ساحة المعركة جريحاً.

بعد هذا الانتصار دخل السلطان سليم العثماني مدينة (تبريز) عاصمة الدولة الصفوية، ولكن انسحب منها فيما بعد و عاد الشاه إسماعيل الى عاصمة دولته، على الرغم من ان الدولة الصفوية لم تسقط نتيجة لتلك الهزيمة، ولكن سلطتها قد تدهورت في كردستان تماماً.



معركة چالديران (أخذت من كتاب الشرفنامه)

### د- دور الكورد في معركة چالديران:

أن كلتا الدولتين قد حاولتا قبل المعركة الاستفادة من قوة وقدرة الكورد. ولكن يظهر ان الأمراء والقادة الكورد كانوا يميلون الى الدولة العثمانية، لأن الصفويين اتبعوا تجاههم سياسة العنف والشدة كما ذكرنا سابقاً، وكذلك فأن السلطان سليم العثماني قد قطع على نفسه العديد من الوعود لكي يبقي الكيانات و الأمارات الكوردية في مواقعها ويعترف بها، وذلك عن طريق الشخصية الكوردية البارزة عند العثمانيين، الملا ادريس البديسي. ونتيجة لذلك انضم (١٦) أميراً كوردياً بقواتهم الى الجيش العثماني في معركة چالديران.



شاه إسماعيل الصفوي



سلطان سليم الأول

### تمرين

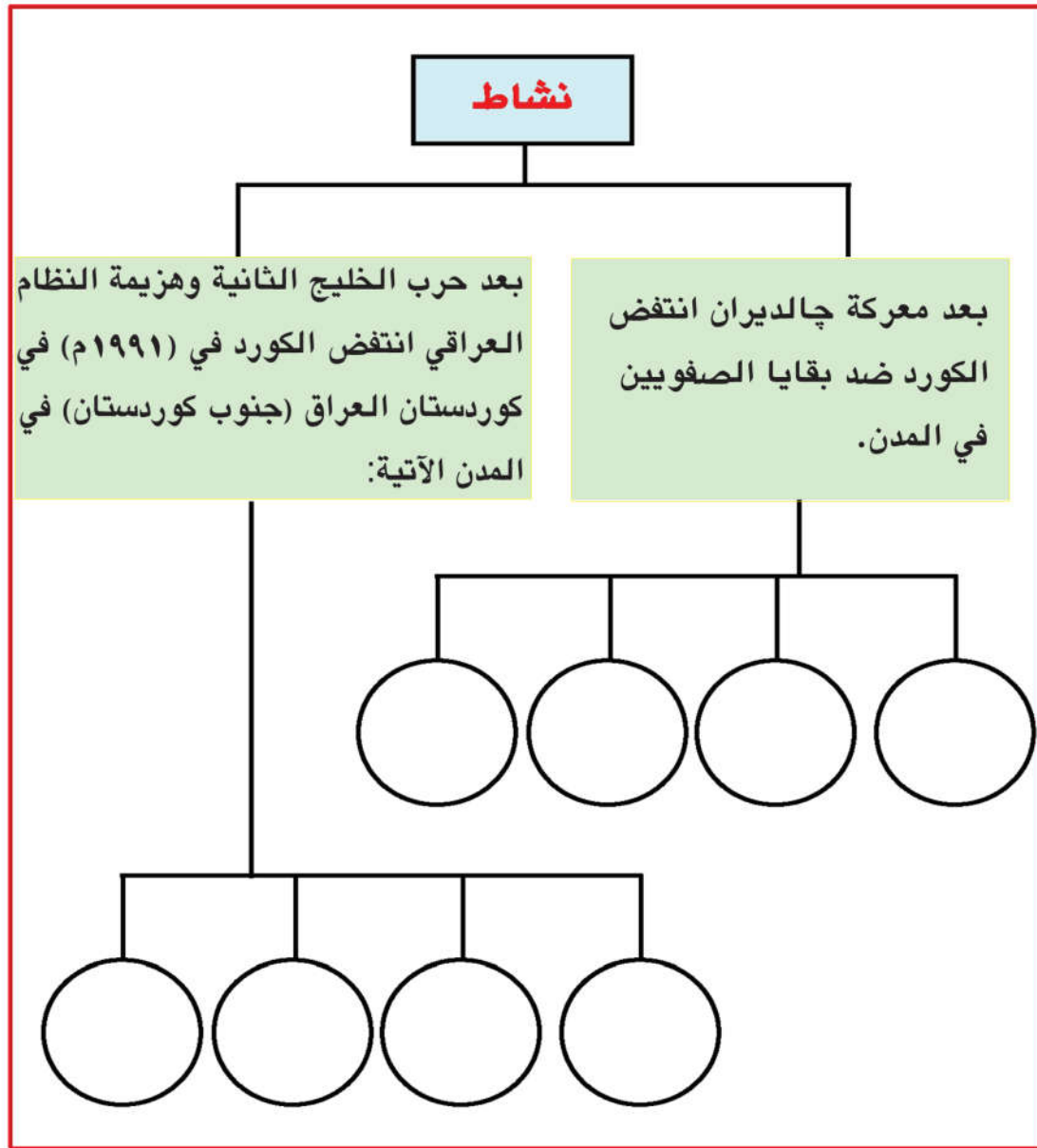
املاً الفراغات الآتية:

- ١- تقع چالديران في..... بحيرة وان.
- ٢- احتل السلطان سليم مدينة..... التي كانت عاصمة للصفويين.

### هـ- نتائج معركة چالديران المترتبة على كوردستان:

كانت لمعركة چالديران تأثير كبير على كوردستان، حيث أنه نتيجة للمعركة وبعض التغيرات الأخرى، انقسمت كوردستان عملياً بين الدولتين العثمانية والصفوية، كما سيظهر لنا فيما يأتي.

في أعقاب معركة چالديران مباشرة اندلعت انتفاضة شاملة في كوردستان. حين انتفض الكورد في معظم مدن وقلاع كوردستان ضد بقايا القوات الصفوية لطردها، حيث جرى تطهير ديار بكر و بدليس وسعرت و ساسون و پالو و كركوك و أربيل وبعض المدن الأخرى من القوات الصفوية، وأستعاد الأمراء والزعماء الكورد سلطاتهم في مناطقهم.





## و- إتفاقية الملا ادريس بدليسي مع السلطان العثماني:

كان قبول الكورد السلطة العثمانية، استناداً الى الاتفاقية التي عقدت بين الدولة العثمانية من جهة و الأمراء والزعماء الكورد من جهة اخرى. وكان الملا ادريس بدليسي الذي كان ممثلاً للدولة العثمانية وسيطاً بين الطرفين وقام بتنظيم هذه الاتفاقية في سنة ١٥١٤م، التي جرى فيها الاعتراف:

- ١- الاعتراف بالحكم الوراثي والاستقلال الذاتي للأمراء الكورد.
- ٢- وكذلك فان كلا الطرفين يساعد أحدهما الآخر في الحرب و الأعمال
- ٣- على الامراء الكورد مساعدة الدولة العثمانية أثناء نشوب الحروب.
- ٤- يدفع الكورد الضرائب والالتزامات للخزينة الدولة العثمانية.

### أهمية الاتفاقية:

جرى الاعتراف بتلك الاتفاقية في المكاتبات الرسمية للدولة العثمانية, وأخذت في التنظيمات الادارية بنظر الاعتبار. كما يظهر من رسالة رسمية للسلطان سليم الأول الذي أرسلها الى الملا ادريس بدليسي في عام ١٥١٥م. لذلك نستطيع أن نقول بأن كوردستان حافظت على كياناتها المحلية والاستقلال الذاتي في اطار الدولة العثمانية, أو كما يقال الآن كان الكورد يتمتعون بشكل من (الفدرالية).



الملا ادريس البدليسي

### ز-توسعات السلطان سليمان القانوني:

في عام ١٥٣٢م حينما كان السلطان سليمان القانوني يحكم الدولة العثمانية بدأت الحرب مرة اخرى بين الدولتين العثمانية والصفوية، فاصبحت كردستان منفذاً للحملات العسكرية وميداناً لاصطدامات قوات الدولتين مرة أخرى، وفي النهاية عندما عقدوا معاهدة(أماسية) في عام ١٥٥٥، أضيفت مناطق أخرى من كردستان الى المناطق التي أكتسبها السلطان سليم في كردستان، وهي مناطق(وان) و(ارضروم) و(شهرزور).

### نشاط:

تقوم مجموعتان من الطلبة بإعداد تقريرين للدرس القادم:

الأول: أثار الحروب على حياة الكورد.	الثانية: ماذا تعني أهمية موقع كوردستان؟
-------------------------------------	---



سلطان سليمان القانوني

### نشاط:

أستاذي العزيز: اطلب من التلاميذ، إعداد نشرة جدارية حول تاريخ الكورد، للدروس القادمة.

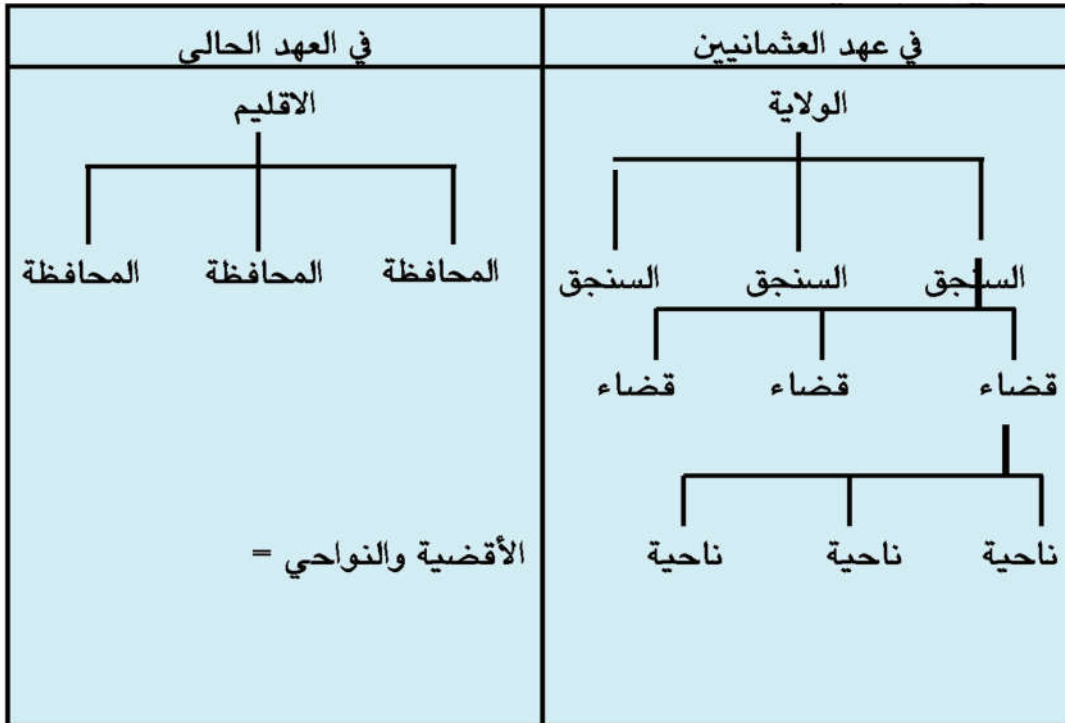
## الفصل الثاني

### أوضاع كردستان في العهد العثماني

#### أ- كردستان في ظل النظام الإداري العثماني:

نتيجة للاتفاقية التي عقدها السلطان سليم مع الأمراء الكورد، أعطت الدولة العثمانية وضعاً إدارياً خاصاً لكردستان، حيث تمتعت الإمارات الكوردية-كما كان مقرراً- باستقلال تام في شؤونهم الداخلية وإقامة العلاقات فيما بينهم، حتى أن الحكام الكورد كان لهم حق جمع الضرائب والخراج في مناطقهم دون تدخل العثمانيين، وكانوا يطلقون تسمية (الحكومة الكوردية) بشكل رسمي على الإمارات الكوردية الكبيرة أو التي تتمتع بأهمية خاصة، كل ذلك مقابل تنفيذ المهام الملقاة على عاتقهم.

#### الهيكل الإداري للدولة:





من نماذج ولايات كردستان: ولاية شهرزور و دياربكر و وان وارضروم والموصل.... الخ.



## بعض من الإمارات الكوردية

### ١- امارة بهدينان:


تعود بداية تأسيسها الى النصف الثاني من القرن الثالث عشر، وكانت سلطة تلك الإمارة سائدة في تلك المنطقة التي لاتزال تعرف بـ(بهدينان)، والتي تشمل شمال نهر بهدينان(الزاب الكبير) حتى حدود العراق مع ايران وتركيا الحالية، كان مركز الإمارة في قلعة (أميدى)، وكان لأمير بهدينان شأن بارز لدى الحكام العثمانيين، لمساندتهم العثمانيين في معركة چالديران، لذلك كان لامارة دور بارز في المنطقة، وشهدت في بداية القرن السابع ايضاً ازدهاراً بارزاً، حتى ان أحد امراء بهدينان نصب والياً على(الموصل)، رغم ان الإمارة قد تدهورت في النصف الثاني من القرن السابع عشر، ولكن حين تولى بهرام باشا زمام السلطة في عام ١٧١٤ انتهى ذلك التدهور فقد حاول ذلك الامير المعروف بـ(پاشايي مهزن-الباشا الكبير) إقرار الهدوء والسلام في بهدينان وعن طريق العدالة والكرم جذب قلوب المواطنين الى جانبه. وحقق أعمالاً عمرانية وتطويرية كثيرة. ولكن بعد موته أربكت الفوضى الداخلية أوضاع الإمارة حتى تمكن(محمد باشا) أمير سوران في عام ١٥٣٣م من إلحاق بهدينان بإمارته عن طريق القوة، ولكن الحكام العثمانيين لم يرضوا بهذا العمل وفي نهاية سنة ١٨٤٢م قضوا على سلطة الإمارة نهائياً.



صورة لمدينة أميدي (العمادية) و بوابة بهدينان

### ازدهار نواحي الحياة المختلفة:

شهدت منطقة بهدينان في ظل الأمانة ازدهاراً اقتصادياً وثقافياً، وكانت تصدر العديد من المنتجات والمحاصيل الزراعية والحرفية الى الخارج ولا سيما الى الموصل، مثل التبغ والصبغ والنحاس والحديد، وكذلك تأسس العديد من المدارس ومراكز العلم مثل مدرسة (قوبهان) التي ضمت مئات الكتب والعديد من العلماء الكفوئين وكانت تدرس فيها مختلف أنواع العلوم السائدة حينذاك.



صورة آثار مدرسة بهدينان

## ٢- إمارة سوران:


إن هذه الإمارة كانت تحكم على الأكثر المنطقة الواقعة بين كلا الزابين الكبير والصغير والتي تكون حالياً محافظة أربيل، وقد جعل أمراء سوران في فترات مختلفة مراكز (هرير) و (شقلوه) و (دوين) و (رواندوز) عاصمة لهم، ساند أمير سوران العثمانيين في معركة چالديران، وقام بتطهير مناطقه من القوات الصفوية، ولكن السلطان العثماني حرم أمراء سوران من إمارتهم في سنة ١٥٣٤م. إلا أن الأمراء السورانيين لم يكفوا عن محاولاتهم حتى فرضوا سلطتهم ثانية على مناطقهم، وقد انتعشت إمارة سوران في النصف الأول من القرن (١٧) وكان لها دور سياسي وعسكري هام في المنطقة وخاصة في إجاد قلعة (دمدم)



ومحاولات إعادة بغداد إلى السلطات العثمانية بعد أن كان الصفويون قد احتلوها، رغم أن الإمارة قد شهدت فترة عصيبة فيما بعد، ولكن حينما تولى محمد باشا السلطة في سنة ١٨١٣ والذي اشتهر باشاي گهوره (الباشا الكبير)، بدأ عهد جديد في إمارة سوران، حيث ان ذلك الأمير قد سعى الى تكوين كيان كوردي مستقل عن طريق توسيع رقعة إمارته بإلحاق مناطق الكورد الايزديين و بهدينان و بعض مناطق شرق كوردستان.



مدفع الاسطة رجب



باشاي گهوره



## معلومات :

اعمال پاشای گهوره:

- ١- بناء القلاع و الجسور.
- ٢- إنشاء معمل للسلاح (وخاصة المدافع).
- ٣- الاهتمام بإقرار الأمن.
- ٤- سك العملة.
- ٥- الاهتمام بالناحية الثقافية وظهور العديد من العلماء من أشهرهم(محمد ابن آدم).

ولكن الدولة العثمانية اعتبرت توسعات الأمير السوراني خطراً، لذلك شنت حملة واسعة في عام ١٨٣٦م فتمكنت من أسر پاشای گهوره وقضوا عليه في عام ١٨٣٧م، كما قضوا على اماره سوران فيما بعد.

## ٣- إمارة بابان:

تعود بداية تأسيس إمارة بابان إلى نهايات القرن (١٥)، ولكنها انطلقت في نهاية القرن(١٦)، حتى قام(فقي أحمد داره شمانه) بإعادة بناء الإمارة في أواسط القرن(١٧) في منطقة مهرگه وپشدهر، ثم وسع أمراء بابان نفوذهم على الدوام إلى المناطق المجاورة، ولا سيما في عهد (بابه سليمان) الذي استولى على مناطق شهرزور وقره داغ و بازيان و مناطق اخرى، وجعل من (قه لا چولان) عاصمة لأمارته. ان هذه الامارة رغم تعرضها للعديد من المشاكل بسبب الصراع الداخلي و التدخل الخارجي في شؤونها، كانت تزدهر وتتوسع باستمرار

ففي سنة ١٧٦٤م كانت تضم كويسنجق وهرير وپردی وأربيل وقره حسن وبدره وجسان مع اماره أردلان أيضاً الى جانب المناطق الأساسية للأماره. وأضاف ابراهيم باشا الباباني مناطق اخرى اليها، وحقق مكسباً هاماً حين بنى في عام ١٧٨٤ مدينة (السليمانية) وجعلها عاصمة الامارة.

### تمرين

اكتب في الحقول الفارغة أسماء عواصم هذه الامارات:

عاصمة اماره بهدينان

عاصمة اماره سوران

عاصمة اماره بابان

ساعدت قوة الأماره البابانية وتطور نفوذها قيام الأمراء البابانيين كي يقوموا بدور هام في حروب الدولة العثمانية مع إيران وفي إنجاز ولاية بغداد أثناء الشدائد. ان أولئك الامراء في بداية القرن (١٩) كانوا على درجة من القوة بحيث كانت لهم كلمة في تعيين وعزل ولاة بغداد، رغم تلك المواقف التي اتخذوها، اذا ما تناقضت مصالحهم مع العثمانيين، كان امراء بابان يقفون في وجوههم ويشعلون الانتفاضة ضدهم. وقد اتخذ الكثير من أمراء بابان هذه الخطوة، ولكن أشهرهم في هذا المجال كان عبد الرحمن باشا الذي قام بمحاولات عديدة بهذا الاتجاه. لذلك قرر الحكام العثمانيون في النهاية القضاء على الأماره وفي عام ١٨٥١م تحقق لهم ذلك.



عبدالرحمن باشا

## تمرين

### ١- امارة بهدينان:

عاصمتها مدينة

.....

تقع مناطق

نفونها في

.....

تأسست في

النصف الثاني

من القرن

.....

### ٢- امارة سوران:

أسس هذا

الباشا معملا

ل.....

في سنة ١٨١٣

استلم الباشا

السلطة.....

انتعشت في

القرن .....

### ٣- امارة بابان:

أشهر امراءها

هو الأمير

.....

في سنة ١٧٨٤

تأسست مدينة

.....

ترجع بداية

تأسيسها الى

نهاية القرن

.....





الأمير والمؤرخ شرفخان البدليسي

### ب- سياسة وممارسات العثمانيين في كردستان:

ان الحكام العثمانيين لم يكونوا يتصرفون تجاه كردستان وفق الاتفاقية على الدوام، بل كانوا يحاولون بمختلف الاساليب تقليص الاستقلال الذاتي للكورد وتأمين مصالحهم في كردستان، في سبيل ذلك كانوا يطبقون سياسة فرق تسد بين الامارات الكوردية، بل كانوا يحرصون افراد الاسرة الحاكمة الواحدة على بعضهم البعض وتزامناً مع هذا كانوا يستفيدون من الكورد في الحرب والحملة العسكرية، كما ينهبون ثروات الكورد بأساليب عديدة.

وفي اواسط القرن التاسع عشر قضاوا على كيان جميع الامارات الكوردية، ومنذ ذلك الوقت قام العثمانيون أنفسهم بادارة مناطق كوردستان بصورة مباشرة. فلم يكونوا ينفذون أي عمل في كوردستان سوى جمع الضرائب والتنجيد، ولذلك، فأن جميع نواحي الحياة الاقتصادية والاجتماعية والثقافية و الصحية في كوردستان لم تشهد تقدم يذكر اسوة بالاقاليم الاخرى التابعة للدولة العثمانية.

### التدريب

أهمل العثمانيون جميع نواحي الحياة في كوردستان من ضمنها:

و	و	و	الحياة الاقتصادية

### ج- موقف الكورد:

ازاء ظلم واستبداد العثمانيين وحكام ايران قام الأمراء والرؤساء الكورد مع أبناء الشعب الكوردي بالعديد من الانتفاضات والثورات في مناطق كوردستان، مثل انتفاضة برادوست بقيادة أمير خان (لهپ زييرين-ذو الكف الذهبي) في قلعة (دمدم) الواقعة في غربي بحيرة ورمين. وكذلك انتفاضات أمراء البابان وخاصة سليم باشا و عبدالرحمن باشا ثم انتفاضة محمد باشا السوراني و أنتفاضة بدرخان باشا البوتاني وانتفاضة يزدانشير وآخرين كثيرين.



### تخطيطية لقلعة دمدم

ولكن اكثر الانتفاضات والثورات أهمية كانت ثورة الشيخ عبيد الله النهري في اقليم هكاري في شمال كردستان التي اندلعت في سنة ١٨٨٠م ضد الدولتين العثمانية و الإيرانية. وكان يطالب باستقلال جميع كردستان وتشكيل دولة كوردية، وتمكن من تحرير مناطق واسعة فيما بين بحيرتي (وان) و (ورمى)، ولكن قمعت كل تلك الأنتفاضات و الثورات أمام شدة ضربات المحتلين و مؤامرات الدول العظمى، ولكن الكورد لم ييأس.

### نشاط:

**أيها المعلم المحترم:** فيما يتعلق بملحمة قلعة (دمدم) أطلب من احدى المجموعات اعداد نشرة جدارية.

## نموالوعي السياسي الكوردي:

في نهاية القرن (١٩) وبداية القرن (٢٠) تطور الوعي السياسي والثقافي لدى الكورد وخاصة بين فئة المتعلمين والمتقفين الكورد الذين كانوا يسكنون في اسطنبول و المدن الكبرى. ونتيجة لذلك صدرت أول جريدة كوردية بأسم (كوردستان) في القاهرة في عام(١٨٩٨)، وذلك من قبل مقداد مدحت بدرخان, وكذلك بدأوا بتشكيل الجمعيات و المنظمات, حيث تأسست في سنة ١٩٠٠م أول جمعية كوردية بأسم ((جمعية العزم القوي الكوردي)), وبعد سنة ١٩٠٨ حينما ظهر قدر من الحرية في الدولة العثمانية تألفت جمعيات اخرى, مثل (تعاون وترقي الكورد) وجمعية (هيفى- الأمل). وفي شرقي كوردستان تشكلت جمعيتي (جيهاندان) و(استخلاص كوردستان) قبل الحرب العالمية الاولى ان معظم تلك الجمعيات و المنظمات كانت تصدر جريدة أو مجلة وتلعب دورها في نشر الوعي القومي الكوردي.



جريدة كوردستان



## نشاط:

املأ الحقول الفارغة بأسماء المجلات و الصحف الكوردية القديمة  
وفي الوقت الحاضر:

--	--	--	--	--	--



لعائلة بدرخان

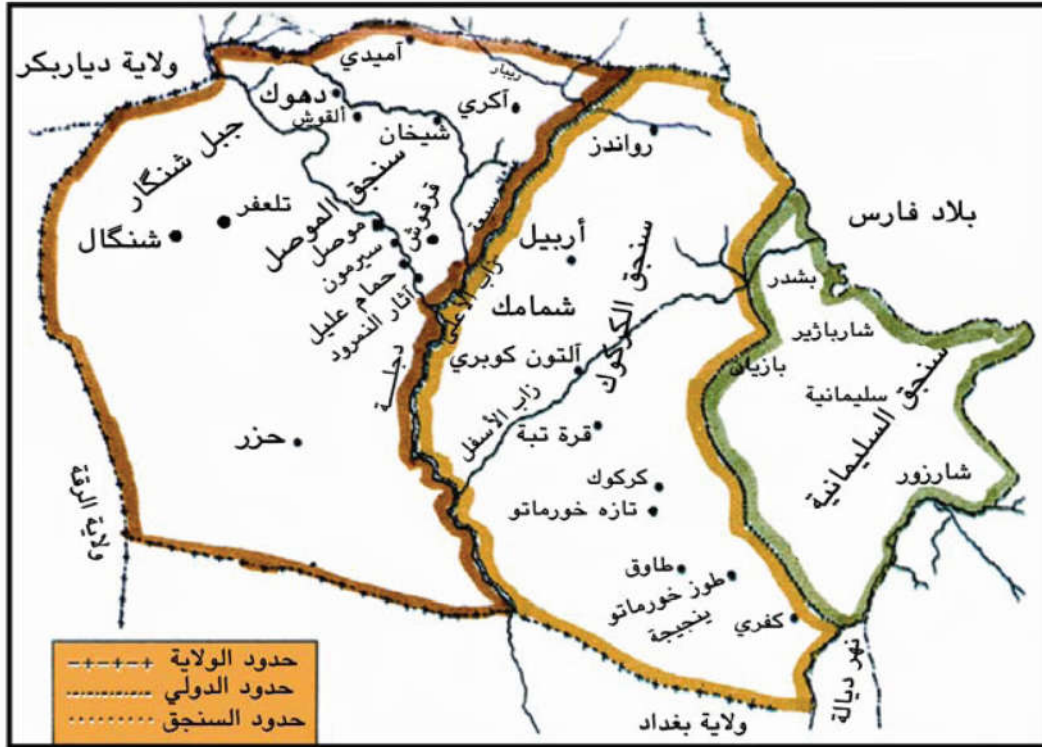
## الفصل الثالث العراق في العهد العثماني

### أ- احتلال العراق من قبل العثمانيين:

ذكرنا في الموضوعات السابقة بأن جنوب كردستان ومن ضمنها مدينة الموصل أيضاً قد دخلت في سنوات ١٥١٤-١٥١٦م ضمن حدود الدولة العثمانية، وهذا يعني بأنه في تلك الفترة وقعت شمال العراق تحت سيطرة العثمانيين، لأن تلك المناطق التي كانت آنذاك جزءاً من كردستان الكبرى تشكل الآن اقليم كردستان العراق، (جنوب كردستان) في حين أن المناطق الأخرى من العراق ظلت حوالي (٢٠) سنة أخرى تحت احتلال الصفويين الى أن شن السلطان سليمان القانوني حملته الكبيرة عام ١٥٣٤م على الدولة الصفوية فتوجه نحو بغداد وأثر ذلك فتحت المدينة في اليوم الأخير من عام ١٥٣٤م واحتلت من قبل العثمانيين. وقد توسع نفوذ الدولة العثمانية حتى وصل الى مدينة (البصرة) على الخليج، وذلك حينما عبر حاكم تلك المنطقة عن ولاءه في عام (١٥٤٦م).

### ب- أوضاع العراق في العهد العثماني:

بعد احتلال العراق، قام العثمانيون بتقسيم هذه البلاد الى عدة وحدات ادارية كبيرة كانت تطلق عليها (الولاية). وكانت هذه الولايات تتمثل في (ولايات **بغداد والبصرة والموصل**) مع (شهرزور) التي كانت ولاية كوردية صرفة مركزها (كركوك).



خارطة ولاية الموصل في نهايات العهد العثماني

### ممارسات الولاة العثمانيين في العراق

كانت كل ولاية يديرها والي بمعاونة عدد من المساعدين و الموظفين, حيث كانت مهامهم الرئيسية عبارة عن حماية السلطة العثمانية وفرض النظام و الامن و جباية الضريبة والخراج من اهالي الولاية, دون ايلاء أي أهمية باعمار المنطقة و اصلاح معيشة الناس و اصلاح وضعهم الصحي.

أما الناحية العلمية و الثقافية فقد أهملت تماماً، و لذلك فأُن عددًا كبيراً من الولاية تسلّموا مقاليد الحكم في هذه الولايات، دون أن يترك أي واحد منهم عملاً بارزاً من بعده. وخاصة في القرنين السابع عشر و الثامن عشر، وحتى ان بعض الولاية قادوا الأوضاع الى الأسوأ بأعمالهم السيئة و الفاسدة، و نتيجة لذلك خيمت أوضاع سياسية غير مستقرة و فوضى و اضطرابات العشائر على البلاد. و كان السكان حيث انهم كانوا يعيشون أوضاعاً عشائرية متخلّفة لم يكن لهم أي دور في ادارة شؤون بلادهم و تحسين معيشتهم، سوى أن في بعض المرات و بسبب سوء الأحوال المعيشية وازدياد الظلم و الاستبداد كانوا يرفعون السلاح بوجه الحكام، كان ذلك في الواقع يأتي بويلات اخرى و كانوا يجمعون. ولكن بعض الولاية قد تركوا بصمات بارزة على البلاد، مثل داود باشا و الي بغداد الذي حقق بعض الإصلاحات الهامة، مثل انشاء بعض الصناعات و المعامل و جلب المطبعة و المضخات المائية و تطوير التجارة.

بعد داود باشا تولى دست الحكم ولاة عثمانيون آخرون في بغداد، ولكن أي واحد منهم لم يستطع إجراء تغيير يذكر في أوضاع الولاية و يؤدي بالوضع نحو الاحسن ماعدا (مدحت باشا) الذي قام بأجراء العديد من الإصلاحات.



## معلومات :

أهم أعمال مدحت باشا في العراق

١- اصدار قانون الطابو (العقار)... تشجيع العشائر البدو الرحل للأستقرار.

٢- ترسيخ الأمن الداخلي.

٣- جلب (السفينة البخارية) وال(ترامواي) و(خطوط البرق).

٤- انشاء مطبعة و اصدار جريدة (الزوراء) في عام ١٨٦٩م.

٥- بناء مدينتي (الناصرية) و (الرمادي).

بشكل عام ونتيجة لتلك الإصلاحات ظهرت مظاهر الحياة المعاصرة في العراق تدريجياً وتطورت. وكان زيادة عدد المدارس قد أدت الى زيادة شريحة المثقفين.

أيها الطالب العزيز:	نشاط:
لماذا يجب أن يقدم الحاكم أو صاحب السلطة الخدمات؟	لبعض الولاة تأثيرات في الحكم منها:
	١- ٢-

## الفصل الرابع ظهور العراق المعاصر

### أ- الاحتلال البريطاني للعراق:

كانت للبريطانيين منذ بداية القرن التاسع عشر مصالح استعمارية في العراق، لذلك طالما كانوا يطمعون في تلك البلاد التي كانت حتى ذلك الوقت ضمن السلطة العثمانية، وحين اندلعت الحرب العالمية الأولى في عام ١٩١٤، وأنضمت الدولة العثمانية الى دول الوسط ضد بريطانيا و حلفائها، أصبحت الفرصة مؤاتية للبريطانيين كي يحققوا أهدافهم في تلك المنطقة، ولذلك انزلوا جيشهم مباشرة في جنوب العراق وبدأوا بالهجوم، ولم يلبث أن احتلوا مدينة (البصرة) وتوجهوا نحو الوسط والشمال.

### الكورد يقاومون:

ازاء الهجوم البريطاني أعلن العثمانيون نداء (الجهاد) وشاركت قوة كوردية بقيادة الشيخ محمود الحفيد مع العشائر العربية في معركة (الشعبية). ولكن هذه المحاولات لم توقف قوات الأنكليز وقد احتلوا بغداد في عام (١٩١٧م)، وحين توقفت الحرب عام (١٩١٨م) اقترب الأنكليز من مدينة الموصل، ولكنهم مارسوا الضغط على العثمانيين لكي يتركوا هذه المدينة وأطرافها فدخلتها القوات البريطانية.

### نشاط:

أيها الطالب العزيز: ان الشعب الكوردي يؤمن بعلاقات أخوية مع العرب و التركمان و الكلد و آشوري.

سؤال: لماذا يجب أن تكون شعوب العراق أصدقاء وعلى وفاق؟



خارطة احتلال العراق و كوردستان من قبل البريطانيين

## موقف الكورد:

حين وصلت القوات البريطانية كركوك قرر زعماء ورؤساء الكورد بقيادة الشيخ محمود الأتصال بهم. وكان ذلك من أجل الأنتقام من العثمانيين والتحرر من سلطة احتلالهم ونيل الحقوق القومية. ونتيجة لذلك أصبح الشيخ محمود (حاكم) كوردستان و اعترف به المسؤولون الأنكليز. هكذا فرضت بريطانيا نفوذها على العراق، ولكن كانت لكوردستان أوضاع خاصة مختلفة.

## ب- ثورة ١٩٢٠

### أسباب الثورة:

- ١- تراجع بريطانيا عن الوعود التي تعهدت بها للعراقيين على لسان (الجنرال مود) حيث أعلن بأنهم جاؤوا لـ(تحرير شعوب العراق).
- ٢- فرض الضرائب و الرسوم الكثيرة على المواطنين.
- ٣- التصرفات القاسية تجاه السكان وسجن الشخصيات الوطنية.
- ٤- لقد تعهدوا بإنشاء دولة للعرب فنكثوا وعودهم.
- ٥- كان الأختلاف الديني، سبباً مهماً.
- ٦- اعتقال رئيس عشيرة (الظوالم) (الشيخ شعلان أبو الجون) من قبل الانكليز.



## بدايات قيام الثورة:

في (٢٠ حزيران عام ١٩٢٠) اعتقل ضابط بريطاني في منطقة (الرميثة) الشيخ شعلان أبو الجون، الذي كان رئيس عشيرة (الظوالم)، لأنه لم يدفع ضريبة الأرض الى الحكام الأنكليز في العراق، وبعد هذه الحادثة وفي نفس اليوم شنت جماعة من مسلحي هذه العشيرة الهجوم على مقر الأنكليز في الرميثة وحرروا الشيخ شعلان، فقد أدت هذه الحادثة الى اندلاع انتفاضة واسعة.

### سؤال

- (١) لماذا أدى فرض الضرائب الباهضة الى استياء العراقيين؟
- (٢) ما هو السبب المباشر لثورة ١٩٢٠؟

## حوادث الثورة:

- (١) تطويق مدينة (السماوة) من قبل مسلحي العشائر.
- (٢) بدأ المقاتلون في جنوب العراق بقطع و تخريب سلك الحديد بين (الرميثة و الديوانية) و(الرميثة والسماوة).
- (٣) دمروا طرق مواصلات الجيش البريطاني.

### معلومات :

لم يكن للشيوخ وزعماء العشائر في جنوب العراق رأي موحد فيما بينهم.  
كان البعض منهم يرى بأن هذه القضية يجب ان تحل بهدوء.

### نشاط:

هل يجب أن تكون المقاومة دائماً بالحرب؟  
لماذا المفاوضات ضرورية؟ أيها المعلم العزيز اجعل هذا محوراً للحوار بين التلاميذ.

### انتفاضات عامي (١٩١٩-١٩٢٠) في جنوب كردستان:

لم يخضع الشعب الكوردي في كردستان للمحتلين في أي وقت. وكان يلجأ الى النضال والثورات كلما شعر بالظلم والاضطهاد. ففي عامي ١٩١٩-١٩٢٠ اندلعت العديد من الحركات والانتفاضات ضد الحكم البريطاني في جنوب كردستان. وذلك لأن البريطانيين تنكروا لحقوق الكورد. وطبقوا سياسة خاطئة ضد الكورد. ومن الضروري ان نؤكد هنا على حقيقة وهي انه قبل اندلاع ثورة العشرين في وسط وجنوب العراق، كان لهيب الانتفاضة قد اندلع في نيسان ١٩١٩ في كردستان.

### نشاط:

لماذا لا يرضى الكورد بالاحتلال؟  
أيها التلميذ العزيز: أعد لجواب هذا السؤال تقريراً للدرس القادم.

يجب أن نذكر هنا الحقيقة بأن قبل قيام ثورة ١٩٢٠ في وسط وجنوب العراق، اندلعت ثورة كردستان سنة ١٩١٩، حيث شملت معظم مناطق جنوب كردستان من (هولير، والسليمانية، وزاخو، وسوران، وبارزان، وكويه، وأمدي، وآكري، وتلعفر، وگرميان {خانقين - مندالي، قزلبات(السعدية)} . تمكن ابراهيم خان دلو بگ مع ويسى بگ من تحرير مدينة (كفري) في ٢٤ آب عام ١٩٢٠ وأجبر قسماً من القوات البريطانية على الاستسلام، كما حررت مدينة (الطوز فيما بعد).



ابراهيم خان دلو

#### أسباب فشل الثورة:

- ١- كانت الثورة على الاكثر عفوية ولم يكن فيها تنظيم.
- ٢- لم يشترك فيها كل فئات الشعب العراقي، حيث أن البعض منهم بالعكس تعاونوا مع المحتل.
- ٣- كان عدد الثوار قياساً الى جيش الأنكليز قليلاً كما كانت أسلحة الثوار قليلة جداً ومتخلفة مقارنة مع الانكليز.
- ٤- لم تكن للثورة قيادة موحدة، وغالباً ما كانت كل منطقة تحارب لوحدها ضد الانكليز.
- ٥- كانت أسبابها تختلف من منطقة الى اخرى.

## ج- تأسيس الدولة العراقية:

نتيجة للأضرار البالغة التي لحقت ببريطانيا أثر ثورة العشرين و الحوادث الأخرى في العراق، قرر المسؤولون الأنكليز أن يحكموا البلاد عن طريق سكانها، ولذلك اختاروا(عبد الرحمن الكيلاني) وكان نقيب اشراف بغداد، لكي يكون رئيس الحكومة الموقته، لحين اقامة نظام دائمي في العراق. وان هذا النظام قد اتخذ بشأنه القرار فيما بعد في مؤتمر القاهرة، حين رشحوا (فيصل ابن الحسين) لكي يكون ملكاً على العراق، شرط ان تكون تحت اشراف بريطانيا، حيث ان العراق قد وضع تحت الأنتداب البريطاني بقرار من مؤتمر(سان ريمو) عام ١٩٢٠. وتمهيداً لذلك أجروا استفتاءً شكلياً فظهر بان العراقيين يؤيدونه.

ولكن الأوضاع في كردستان لم تكن بهذا الشكل، لأن سكان لواء (كركوك) لم يرضوا بذلك، بل ان لواء(السليمانية) لم يشترك فيه أساساً. اما سكان لوائي اربيل والموصل فقد وافقوا بشروط وهي ضمان حقوق الكورد. وعلى الرغم من ذلك جرى في (٢٣) آب ١٩٢١ احتفال تتويج فيصل، واستناداً الى ذلك أصبح العراق دولة وأصبحت لها عائلة مالكة.



ملك فيصل الأول



## الفصل الخامس

### بداية القضية الكوردية في العراق

#### أ- ثورة الشيخ محمود الحفيد:

حينما أصبح الشيخ محمود بعد اعتراف الأنكليز به حاكماً لكوردستان، لم يلبث أن تردت علاقته مع الحكام البريطانيين نتيجة لتراجعهم عن وعودهم السابقة بالنسبة لحقوق الكورد، بل كانوا يريدون الانتقاص من سلطة الشيخ محمود، لذلك أعلن الشيخ محمود، في عام ١٩١٩ الثورة واستولى على السليمانية ورفع علم حكومته فيها. كانت الثورة في تطور وخاصةً عندما ردوا على هجوم بريطاني، ولكن الهجوم الثاني أدى الى انتكاسة الثوار وتم أسر الشيخ محمود بجانب (بهرده قارهمان) في المعركة التي وقعت في مضيق بازيان بينهما.



الشيخ محمود حفيد

## اضطرار الانكليز لإعادة الشيخ محمود:

على الرغم من الانكليز أبعثوا الشيخ محمود الى الهند، ولكن اضطرروا لاعادته في سنة ١٩٢٢ الى كوردستان، لأن أوضاع هذه المنطقة كان مضطربة تماماً، وقد انفلت منهم زمام الأمور، وقد أسس الشيخ هذه المرة حكومة كوردية محلية (مثل حكومة اقليم كوردستان الحالية) **(حيث كانت من اهم أعماله اتخاذ اللغة الكوردية لغة رسمية لحكومته ورفع العلم وتشكيل الوزارات والمؤسسات الحكومية والجيش واصدار الطوابع والجريدة الخاصة بها)**



مشهد من قصف السلیمانية ١٩٢٣

### سؤال:

قامت حكومة الشيخ محمود بهذه الأعمال:

- ١
- ٢
- ٣

ولكن العلاقات قد توترت ثانية بين الشيخ و بريطانيا، لأن الشيخ محمود نصب نفسه ملكاً على كردستان. وكان يحاول أن تشمل سلطاته جميع مناطق جنوب كردستان، لأشك في ان ذلك كان حلم الكورد جميعاً، ولكن بريطانيا لم ترض بها، وأثر ذلك قصف الطائرات البريطانية مدينة (السليمانية) في سنة ١٩٢٣، ثم بدأوا بالتعاون مع الجيش العراقي هجوماً عسكرياً وتمكنوا من اعادة احتلال المدينة. وبعد انتفاضة باب السراي في السليمانية في سنة (١٩٣٠) قام شيخ محمود مرة اخرى بثورة مسلحة ضد الحكومة العراقية والأنكليز، ورغم ان الثوار الكورد بقيادة الشيخ قد حققوا نصراً مهماً في بداية المعركة (آوباريك)، لكنها وللأسباب عديدة منها عدم التكافؤ بين الجانبين تعرض قوات الشيخ محمود للهزيمة.

### ب- مشكلة ولاية الموصل:

في أواخر العهد العثماني كانت مناطق جنوب كردستان بمعظمها تشكل ولاية كان مركزها مدينة الموصل، لذلك كانت تطلق عليها (ولاية الموصل) لذلك يمكن القول بان هذه الولاية كانت تشمل معظم اقليم كردستان العراق حالياً. نظراً لأن الجزء الأكبر من تلك الولاية لم تحتلها بريطانيا بالحرب. بل انتزعتها من الترك العثمانيين بعد ايقاف الحرب العالمية، لذلك فأن الحكومة التركية التي كانت قائمة بدلاً من الدولة العثمانية كانت تطالب بها، إلا ان بريطانيا و العراق كانتا تعتبرانها جزءاً من الدولة العراقية. وهكذا فقد ظهرت مشكلة حول هذه الولاية بين دولتين، لم تكن أي منهما تملك حقاً فيها، لأن الغالبية العظمى من السكان هم من الاكراد الذين لم يهتم أحد برغبتهم في كيفية حل القضية، وبعد أن دامت هذه القضية بين الطرفين عدة سنوات، طرحت على (عصبة الأمم) التي كانت منظمة عالمية، وهي التي قررت في عام ١٩٢٥ ان تضم المنطقة الى العراق على ان تبقى تحت الانتداب البريطاني. بشرط ألا يهمل سكانها

(وغالبيتهم الساحقة من الكورد) في الشؤون الإدارية و القضائية و التعليمية و  
يضمن حقوقهم في استخدام اللغة الكوردية في المنطقة. و بالنتيجة فأن الحدود  
الحالية بين العراق و تركيا قد وضعت. وهكذا أهملت الحقوق القومية للكورد و قد  
تجاهلت بريطانيا كل الوعود التي تعهدت بها للكورد.

### التدريب:

كانت ولاية (الموصل) تضم هذه المدن:

--	--	--	--	--

### ج- المعاهدة العراقية البريطانية سنة ١٩٣٠:

#### أسباب عقد هذه المعاهدة:

- ١- ان الدولة العراقية التي تأسست عام ١٩٢١ كانت بشكل مباشر تحت (الانتداب)<sup>(١)</sup> البريطاني، اذ كانت لا تتمتع بكامل سيادتها، ولذلك كان صوت الأحتجاج بين الشعب في ازدياد.
- ٢- وحينما حصل حكام العراق خلال سنوات ١٩٢١-١٩٣٠ على الخبرة في شؤون الدولة و طريقة الإدارة، شعروا بأنهم لم يعودوا بحاجة الى الانكليز.
- ٣- أما بريطانيا فقد شعرت تحت ضغط سكان العراق و الحكومة العراقية، بأنه حان الوقت لعقد (معاهدة) جديدة.

وقعت المعاهدة بين (العراق - بريطانيا) في سنة ١٩٣٠ من قبل  
نوري السعيد و ("همغريز").

(١) الانتداب: نظام وضعته الدول الاستعمارية (بريطانيا وفرنسا) من أجل منح الشرعية لهيمنتها على الدول التي كانت خاضعة للدولة العثمانية قبل انتهاء الحرب العالمية الأولى



### مضمون المعاهدة:

- ١- تعزيز السلام و الصداقة و التحالف بين العراق و بريطانيا .
- ٢- يضع العراق جميع طرقها البرية, البحرية, السكك الحديدية, الجوية تحت تصرف بريطانيا , اذا احتاجت اليها .
- ٣- التعاون فيما بينهما اذا ما تعرض أحد الطرفين الى الحرب و الهجوم .
- ٤- تبقى لبريطانيا قاعدتان عسكريتان في وسط و جنوب العراق .
- ٥- مدة هذه المعاهدة (٢٥) سنة .

### ردود فعل معاهدة ١٩٣٠ في كردستان:

ضمن قرار (عصبة الامم) الخاصة بمشكلة الموصل كانت قد تمت الاشارة الى بعض حقوق الكورد كما ذكرنا سابقاً الاً أن المعاهدة المذكورة بين العراق و بريطانيا في عام ١٩٣٠ لم تتطرق بأي شكل من الأشكال الى حقوق الكورد بل انها لم تذكر الكورد في أية مادة أو فقرة، و لذلك لم يكن لهذه المعاهدة رد فعل جيد في كردستان. فجماهير كردستان عامة كانت ضد هذه المعاهدة في مدن كركوك، السليمانية، أربيل، بهدينان، وفي السليمانية قامت المظاهرات واستشهد فيها الناس، كما سنتناولها بالتفصيل فيما يأتي.

## د- انتفاضة باب السراي في السليمانية عام (١٩٣٠):

### أسباب الانتفاضة:

- ١- أهملت معاهدة ١٩٣٠ المعقودة بين العراق و بريطانيا جميع مطالب الشعب الكوردي.
- ٢- لم يرض المثقفون و الوطنيون الكورد في كافة مدن كوردستان عن هذا الإهمال.
- ٣- كان للنواب الكورد في برلمان العراق مطالب لكنها أهملت.

### موقف الكورد

كان المثقفين و الوطنيين الكورد و بالأخص في مدينة السليمانية أمتنعوا عن المشاركة في (الانتخابات) التي ارادت الحكومة العراقية اجراءها في (١٠) أيلول ١٩٣٠.

وكانت الحكومة العراقية في ذلك العهد مصرة على سياسة الإهمال تجاه مطالب الكورد، ولكن حسب (معاهدة ١٩٣٠) زارت لجنة مشتركة من (العراق و بريطانيا) مدن كوردستان.

**أيها التلميذ العزيز:** في ذلك اليوم الأسود أستشهد عدد من المتظاهرين, وبدأت الاعتقالات في المدينة. ولكن هذه الكارثة أكدت على حقيقة ساطعة.

**نشاط:**

**أيها التلميذ العزيز:** حاول المثقفون الكورد تبني أسلوب الحوار.

**سؤال:** لماذا؟

**أيها المعلم المحترم:** افتح حواراً حول الكفاح السياسي.

### **كارثة السادس من أيلول ١٩٣٠:**

أصرت الحكومة العراقية على إجراء الانتخابات في مدينة السليمانية، وفي (٥) أيلول كانت هيئة التفتيش منشغلة بالأعداد للانتخابات، وحتى ذلك الوقت اتخذ الأهالي قراراً بعدم المشاركة في الانتخابات.

في يوم (٦) أيلول من عام ١٩٣٠ تجمع الناس تدريجياً في مركز المدينة، في البداية كان الشاعر فائق بيكس و عدد من المواطنين قد تجمهروا، ثم أخذ عدد المشاركين يزداد باستمرار، وسارت الجماهير نحو (باب السراي) وكانوا يطلقون الهتافات ضد الانتخابات ويحرضون على التظاهر لكي يقطعوا الطريق على هؤلاء الأشخاص الذين كان عددهم (٣٠) شخصاً، استدعوا الى (السراي) لكي يصوتوا للانتخابات. وحين وصلت المسيرة الى باب (السراي) ونتيجة مخاوف الشرطة من غضب الجماهير وافلات الأمور من السيطرة استدعى الحكومة عدد كبير من افراد الشرطة وقاموا باطلاق الرصاص على الجماهير.

### نشاط:

أيها المعلم المحترم: اطلب من التلاميذ إجراء الحوار تجاه صمود الشعب. ماذا يعني الصمود في الوقت الحاضر؟

### نشاط:

ثمة أحداث مهمة مقابل الشهور والسنين اكتبها:

الشهور والسنين	الحوادث المهمة
(٦) أيلول ١٩٣٠	
(١١) أيلول ١٩٦١	
(١٦) آذار ١٩٨٨	
(١٤) نيسان ١٩٨٨	

### هـ- ثورة الشيخ أحمد البارزاني:

كانت منطقة بارزان تدير شؤونها بنفسها حتى بعد تأسيس الدولة العراقية، لذلك حين قررت الحكومة العراقية فتح مراكز للشرطة سنة ١٩٣١ في تلك المنطقة، تصدى لها سكان المنطقة بقيادة شيخ أحمد البارزاني ولم يكونوا



مستعدين للخضوع. ونتيجة لذلك أصبحت بارزان ومناطقها المجاورة في حالة ثورة مسلحة. في البداية أخذت الحكومة تبث الدعايات المختلفة ضدهم لتحريض العشائر الكوردية المحيطة بهم، ثم قام الجيش بمساعدة بعض العشائر والطائرات البريطانية بشن الهجوم وقاموا بعمليات تخريبية وتدميرية في المنطقة، على الرغم من ان الشيخ أحمد و الثوار خاضوا كفاحاً جريئاً و الحقوا العديد من الأضرار بالمهاجمين، ولكن لم يستطيعوا أن يستمروا في المقاومة، فقضيت على الثورة في عام ١٩٣٢.



الشيخ أحمد البارزاني

### و- الثورة في الأجزاء الأخرى من كوردستان:

في فترة ما بعد الحرب العالمية الأولى نفسها ونتيجة ليقظة الكورد و سياسة الاضطهاد التي اتبعها المحتلون كان، الكفاح السياسي والمسلح في الأجزاء الأخرى من كوردستان، وتشكلت العديد من الجمعيات و الأحزاب الكوردية

لقيادة كفاح الكورد مثل جمعية (تعالى كوردستان) وجمعية (استقلال كوردستان) و جمعية (خويبوون) في شمال كوردستان حيث كانت تحاول عن طريق إصدار المجلات والصحف ايقاظ أبناء الشعب وعبر الاتصال بالدول الكبرى كانت تسعى لتحقيق حقوق الكورد، ولكن اشتد عنف وضربات المحتلين، لجأت الى الكفاح المسلح، ففي شرق كوردستان كان إسماعيل خان الشكاك الذي عرف ب(سمكو) مستمرا على انتفاضة ضد السلطة الإيرانية، وقد حقق العديد من الانتصارات وحرر جميع المناطق الغربية والجنوبية من بحيرة (ورمى).



سمكو الشكاك

ولكنه أعتيل أخيراً في عام ١٩٣٠ عن طريق مؤامرة غادرة نفذها النظام الإيراني في مدينه(شنو). وفي تلك الفترة نفسها تمكنت حكومة رضا شاه في ايران من قمع عدد من الانتفاضات المحلية في شرق كوردستان كأنتفاضة(جعفر سلطان) في منطقة هوارمان التابعة لايران. وفي شمال كوردستان ظهرت العديد من الثورات ضد سياسة ابادة الشعب الكوردي التي كان تتبعها الحكومة الكمالية في تركيا، منها انتفاضة ملاطية وانتفاضة كوچگيرى وثورة الشيخ سعيد بيران في منطقة ديار بكر سنة ١٩٢٥ وانتفاضة ئاگرى داغ في سنوات ١٩٢٧-١٩٣١ بقيادة احسان نوري باشا في جبال آارات وانتفاضة درسيم سنة ١٩٣٧ بزعامة سيد رضا درسيمنى، ولكن قضيت على كل تلك الانتفاضات جراء استخدام الشدة و القوة و مساعدة البلدان المجاورة والدول العظمى.



الشيخ سعيد بيران و هو في طريقه الى -المشقة-



## ح- ثورة بارزان (١٩٤٣-١٩٤٠):

بعد إنهاء ثورة بارزان الأولى في ١٩٣١ - ١٩٣٢م تم ابعاد زعماء بارزان من المنطقة الى الوسط و الجنوب...

كان الزعيم الكوردي المعروف(مصطفى البارزاني) يقيم في مدينة (السليمانية) تحت رقابة الحكومة العراقية، تمكن (البارزاني) خلال تلك الفترة من تكوين المعارف و الصداقة عن كثب مع مثقفي و مناضلي تلك المدينة وخاصة مع أعضاء (حزب هيو- الأمل) الذين كانوا يستهدفون تحرير كردستان، وفي تموز ١٩٤٣ تخلص البارزاني من رقابة الحكومة العراقية عندما تمكن بمساعدة حزب هيو من الفرار الى الحدود، ليعود عن طريق كردستان ايران الى منطقة (بارزان).


## تحرير منطقة بارزان:

رغم ان البارزاني حاول في البداية تسوية المسألة سلمياً مع الحكومة، ولكن الحكومة العراقية كانت قد أنشأت في سنة ١٩٤٣ العديد من مراكز الشرطة في المنطقة وكان أهالي المنطقة ينظرون الى تلك المراكز بعين الشك والحقد، فتعرضت مراكز الشرطة الى الهجمات، حتى تحررت المنطقة.



## المفاوضات بين البارزاني والحكومة العراقية:

أرسل رئيس الوزراء العراقي(ماجد مصطفى) الذي كان وزيراً كردياً الى (البارزاني) للمفاوضات، واستجابةً لتقرير (ماجد مصطفى) المقدم الى الحكومة العراقية تم اعادة زعماء بارزان الذين كانوا مبعدين في الوسط و الجنوب الى (بارزان) وقد خطى البارزاني من جانبه عدة خطوات للتعبير عن رغبة الكورد في السلام تجاه الحكومة.



مصطفى البارزاني

### نشاطات:

أيها المعلم الفاضل: اطلب من مجموعة من التلاميذ أن يعدوا تقريراً للدرس القادم حول المحور الآتي.  
كثيراً ما أطلقت الحكومات العراقية الوعود للكورد، ثم تراجعت عنها... يجري الحوار حول هذا.

### أهم مطالب الثورة:

- ١- اطلاق سراح السجناء الكورد.
- ٢- تعيين ممثلين عن الكورد في بغداد و زيادة صلاحياتهم.
- ٣- العمل باللغة الكوردية رسمياً.
- ٤- اجراء الإصلاح الزراعي وبناء المدارس والمستشفيات.
- ٥- يجب ان يكون المسؤولون الحكوميين في كوردستان من الكورد.

### موقف الحكومة العراقية و استئناف القتال...

- ١- أعلنت الحكومة العراقية العفو العام ولكن لم يشمل الضباط الأحرار.
- ٢- كان يطلب من زعماء الثورة تسليم أسلحتهم.
- ٣- كانت الحكومة تعيد بناء مراكز الشرطة في المنطقة و ترسل قوات عسكرية الى المنطقة. لذلك استؤنف القتال. فاستولى الپيشمهرگه في آب ١٩٤٥ على مراكز شرطة منطقة (بارزان)، وسجلوا ملاحم مهمة، والتحق بصفوف

الثورة عدد من العسكريين والضباط المثقفين الكورد. لذلك حشدت الحكومة العراقية قوة عسكرية كبيرة في جبهات (أميدي) (رواندون) (أكري).

### **الانسحاب والهجرة الجماعية نحو ايران:**

لذلك وفي نهاية عام ١٩٤٥ وتحت ضغط السلاح الثقيل المدمر والطائرات الحربية البريطانية، انسحبت قوة الپيشمهركه بعوائلهم نحو جبال كوردستان ايران(التي كانت تستعد لتأسيس جمهورية كوردستان). بلغ عدد الكورد المهاجرين حوالي (١٠) آلاف شخص.

#### **نشاطات:**

**أيها التلميذ العزيز:** ان الشعب الكوردي أسوة بالشعب العربي و الشعب التركماني و الكلد و آشوريين له حق الثورة ضد المحتل... (حق الثورة) متى و لماذا؟ حول ذلك تجري مجموعة حواراً في الصف.

## الفصل السادس

### جمهورية كردستان المستقلة

في نهاية آب ١٩٤١ بدأ هجوم الحلفاء على ايران، فخرقت بريطانيا من الجنوب والاتحاد السوفيتي من الشمال الحدود الايرانية ليحتلوا أجزاء من هذه البلاد. ثم انزلوا الدكتاتور رضا شاه عن العرش. كانت المناطق الشمالية من كردستان الشرقية بضمنها مدينة مهاباد، بمنأى عن الاحتلال طوال الحرب، لذلك كان الاهالي يديرون شؤونهم بأنفسهم هناك. وبعد مرور سنة على ذلك قامت مجموعة من المناضلين والمتقنين الكورد بتشكيل جمعية سياسية في مدينة مهاباد تحت اسم جمعية احياء كردستان (كۆمهلهي ژيانه وهي كردستان-ژك)، فأصبحت الجمعية فيما بعد أساسا للحزب الديمقراطي الكوردستاني في ايران (پارتی ديموكراتی كردستان) الذي تأسس في ١٦ آب ١٩٤٥ وأصبح (القاضي محمد) رئيسا له، وذلك لأنه كان يعتبر شخصية اجتماعية ودينية وسياسية بارزة في المنطقة.



قاضي محمد



## رفع علم كوردستان و تأسيس الحكومة:



في ٢٢ كانون الثاني عام ١٩٤٦ وبحضور أكثر من (٢٠) ألف شخص، تم رفع علم كوردستان في ساحة چوارچرا في مدينة ((مهاباد))، فقاموا بعد ذلك برفع هذا العلم على المؤسسات الحكومية في المدن الأخرى ضمن حدود الجمهورية الكوردية مثل (نغده و بوكان و شنو و خانه و سردشت و ماکو) ثم اعلن عن اسماء وزراء حكومة كوردستان في جريدة (كوردستان)، وكانت تتكون من "الحاج بابيه شيخ" رئيساً للوزراء مع (١٣) وزيراً آخرين تقلدوا الوزارات مثل "وزارة الصحة و الأقتصاد و المواصلات و التجارة.



### نشاط:

تقوم مجموعة بأعداد نشرة جدارية عن جمهورية كردستان.

### مكاسب جمهورية كردستان:

رغم ان عمر هذه الجمهورية كان (١١) شهراً، ولكنها انجزت الكثير من المكاسب خلال هذه المدة من أهمها:

- ١- أصبحت اللغة الكوردية لغة رسمية.
- ٢- طبع و نشر العديد من المجلات و الصحف مثل (كوردستان) (هه لآله) و (گروگالی مندالان) و (هاواری نیشتمان) وذلك عبر مطبعة كوردستان.

٣- الاهتمام بفتح المكتبات الشعبية و الإذاعة و السينما المتنقلة وتأسيس مسرح كوردي.

٤- تأسيس الجيش الشعبي الكوردستاني وحماية اموال و ارواح الاهالي.

٥- اتاحة الفرصة للمرأة الكردستانية للمساهمة في النشاطات السياسية والثقافية.

٦- الحصول على الاستقلال والتمتع بحق تقرير المصير ولو كان ذلك لفترة محدودة.

### نشاط:

أيها المعلم العزيز: (اختر مجموعة من ٤-٥ تلاميذ لكي يناقشوا أهمية (( الصحف و المجلات و الإذاعة و التلفزيون)) ودور(( وسائل الأعلام)) في تنمية (الوعي القومي).

### موقف الحكومة الإيرانية تجاه جمهورية كوردستان:

حين واصلت جمهورية كوردستان جهودها لتطوير المجالات السياسية والاجتماعية والاقتصادية، كانت حكومة طهران تنظر بعين الشك الى مثل تلك التحولات. واتبعت حكومة طهران مختلف السبل للقضاء على (جمهورية كوردستان). حيث اتفقت مع الحكومة السوفيتية في (١٩) شباط من عام ١٩٤٦ على انسحاب القوات السوفيتية من شمال ايران مقابل حصة من نפט ايران. وهكذا أصبحت حكومة طهران مطلقة اليدين لكي تشن الهجوم على جمهورية كوردستان.

<b>تدريب</b>			
اكتب في الحقول الفارغة الآتية اسم ثلاثة صحف و مجلات طبعت في مطبعة كردستان.		اكتب في الحقول الفارغة الآتية اسم مدينتين كردستانيتين رفع فيهما علم كردستان.	

### **الدفاع عن جمهورية كردستان :**

في بداية تأسيس جمهورية كردستان ، تأسست قوة ( الپيشمهرگه ) لحماية الجمهورية، البارزانيون بقيادة (مصطفى البارزاني) الذين توجهوا بعد ثورة بارزان الى كردستان ايران(شرق كردستان)، شكلوا جزءا مهما من هذه القوة، هذا اضافة الى العديد من ضباط كردستان الجنوبية الذين كانوا يقودون قوات الپيشمهرگه وجاءوا ليلتحقوا بالجمهورية و يدافعوا عنها.

### **حرب المقاومة:**

استمرت الحرب و الأشتباكات بين قوات پيشمهرگه كردستان والجيش الإيراني في كثير من مناطق كردستان. وخاصة في جبهات سردشت و سقز حيث كانت قوات الپيشمهرگه بقيادة البارزاني ورفاقه من جنوب كردستان تدافع عن جمهوريه كردستان و تحرز الانتصارات على الجيش الايراني وحتى اليوم الأخير في حياة جمهورية مهاباد، فان الپيشمهرگه لم يسمحوا للعدو أن يتقدم من هذه الجبهة.





خيرالله عبدالكريم



عزت عبدالعزيز



محمد محمود قدسي



مصطفى خوشناو

شهداء كردستان (الضباط الأربعة)

### نشاط:

أيها المعلم العزيز: ما هو تأثير "الموقف الدولي" في القضية الكردية في

الماضي والحاضر؟

ناقش هذا الموضوع مع التلاميذ مدة (١٠) دقائق.

## البارزاني ورفاقه بعد انهيار الجمهورية:

وبعد انهيار جمهورية كردستان قاوم البارزاني ورفاقه الجيش الإيراني وسجلوا العديد من الملاحم ثم انسحبوا نحو جبال كردستان العراق وقد سلم الضباط الأربعة وهم (محمد قدسي و خيرالله عبدالكريم وعزت عبدالعزيز و مصطفى خوشناو) مع أسر عوائل الثوار أنفسهم الى السلطات العراقية التي اعتقلت الضباط ثم قامت بإعدامهم في ١٩ حزيران ١٩٤٧ ليكونوا من شهداء حركة تحرر كردستان ولكن البارزاني ورفاقه الـ(٥٠٠) وتحت وابل نيران جيوش العراق و إيران و تركيا تمكنوا وبعد معارك بطولية من عبور نهر(آراس) واللجوء الى الاتحاد السوفيتي.

## انهيار جمهورية كردستان:

غادرت القوات البريطانية(والامريكية التي جاءت فيما بعد الى ايران) جنوب إيران وانسحب الجيش السوفيتي من مناطق أذربايجان و كردستان أيضاً. وبذلك سنحت الفرصة لحكومة طهران كي تجمع قواتها العسكرية وتشن الهجوم على كلتا جمهوريتي (أذربايجان و كردستان) بعد القضاء على جمهورية أذربيجان وقتل العديد من الاهالي أعلن قاضي محمد عن موقفه السلمي منعاً لسفك الدماء. ولكن الجيش الإيراني واصل تقدمه فأحتل مهاباد واعتقل القاضي محمد مع رفاقه.

### يوم أسود و حزين:

في يوم (٣١) آذار ١٩٤٧, اعدم قاضي محمد وحسين خان سيفي قاضي وأبو القاسم صدر القاضي في ساحة چوارچرا وسط مدينة مهاباد، وذلك اضافة الى القيام بقتل العديد من الاشخاص الآخرين.



سيفي قاضي



قاضي محمد



صدر قاضي

### سؤال

- ١- في أي تاريخ رفع علم كردستان؟
- ٢- عدد (٦) مكاسب من مكاسب جمهورية كردستان.
- ٣- لماذا حاول قاضي محمد أن يتعامل مع الحكومة الإيرانية بشكل سلمي؟

# القسم الثالث المواطنة



- ١- القسم الأول / الدولة .
- ٢- القسم الثاني / المؤسسات الخدمية .
- ٣- القسم الثالث / الأعياد الوطنية و الدينية .
- ٤- القسم الرابع / مجتمع .
- ٥- القسم الخامس / البيئة .
- ٦- القسم السادس / حقوق الأطفال .

## الفصل الأول

### الدولة

كيان سياسي وإداري له سلطة سيادية على نطاق جغرافي محدد. وتمارس هذه السلطة عبر منظومة من المؤسسات دائمة.

#### مقومات الدولة: تؤسس الدولة على المقومات الآتية:

١- الأقليم الجغرافي.

٢- الشعب.

٣- السلطة.

٤- السيادة.

١- الأقليم الجغرافي: مساحة محددة من الأرض معترف بها دوليا.

#### نشاط:

أيها الطالب العزيز: تتمكن هنا أن تستأذن من معلمك المحترم بأن تروي قصة لأصدقائك عن حب الأم و الوطن.

٢- الشعب: مجموعة من الأفراد يعيشون على قطعة أرض جغرافية معينة لهم، يتميزون عن الشعوب الأخرى تجمعهم اللغة و العادات و التقاليد الخاصة و التاريخ المشترك.

٣- السلطة: وهي وسيلة أو الألية التي تمارس من خلالها الدولة سلطتها.

٤- **السيادة:** عبارة عن ممارسة سلطة الدولة على نطاق جغرافي (البر، الجو، المياه) بموجب القوانين المعترف بها دولياً.

**نشاط:**

**أيها التلميذ العزيز:** الصق خارطة العراق بدفترك أشر عليها مدن: دهوك و زاخو و السليمانية و أربيل و الموصل.

**نشاط:**

- ١- الصق صورة طبيعية لكوردستان بدفترك.
- ٢- الصق صورة علم كوردستان بألوانه الجميلة بدفترك.



محكمة

## القسم الثاني المؤسسات الخدمية

مجموعة من المؤسسات العامة، تدير شؤون المواطنين من خلال توفير الحاجات والخدمات العامة كـ (المياه، الكهرباء، الوقود، النقل والمواصلات، المؤسسات التربوية والتعليمية والرعاية الصحية وحماية البيئة... الخ). تتميز المجتمعات المتمدنة بتوفير وتطوير المؤسسات الخدمية في كافة المجالات، لذا نعتبر المؤسسات الخدمية معياراً لمدى تطور وتمدن المجتمع.

### التدريب

#### ايها التلميذ العزيز:

- ١- اكتب هنا أسماء ثلاث مدارس في مدينتك ..... و .....
  - ٢- سجل هنا أسمى مؤسستين خدميتين في مدينتك ..... و .....
- ولذلك فان حكومة اقليم كوردستان تهتم كثيراً بالمؤسسات الخدمية.

#### نشاط:

ايها التلميذ العزيز: اكتب أسمى (٢) مشروعين خدميين بنتهما الحكومة في مدينتك أو قريرتك.





صورة مشاريع الخدمات

### أهم المؤسسات الخدمية فيما يأتي:

- ١- التربية والتعليم.
- ٢- الرعاية الصحية.
- ٣- النقل والمواصلات.
- ٤- خدمات ثقافية.
- ٥- خدمات اقتصادية.
- ٦- خدمات أخرى.



صورة طائرة

١- التربية والتعليم: هي إحدى أهم المهام للدولة لتطوير المجتمع بواسطة فتح المدارس في المدن والقرى لنشر التعلم والوعي في المجتمع بمختلف مراحلها (رياض الأطفال، الأساس، الإعدادية، الإعدادية المهنية، المعاهد، الجامعات.... الخ).





صف دراسي

٢- الرعاية الصحية: تحاول الدولة بناء مواطن قادر وسليم الجسم بحيث يستطيع خدمة وطنه وشعبه, لذلك قامت حكومة اقليم كوردستان في المدن والبلدات بضمان الخدمات الصحية للمواطنين.

١- بناء المستشفيات الكبيرة الخاصة بالجراحة ومعالجة الامراض.

٢- فتح مراكز صحية شعبية.

٣- فتح مراكز صحية لفحص ومعالجة التلاميذ.

٤- فتح كليات الطب والمعاهد والاعداديات القابلة والتضميد.





كلية الطب

### نشاط:

أيها التلميذ العزيز: الجسم السليم مهم جداً لحماية قدرات الانسان (ان النظافة) ركن رئيسي لسلامة الجسم ... ماذا نعمل لكي نحافظ على نظافة مدرستنا.

٣

٢

١



٣- النقل و المواصلات: اهتمت حكومة الأقليم بتطوير خدمات النقل و المواصلات و المرور لكي يتصل المواطنون فيما بينهم في الداخل و خارج الأقليم بسهولة, فاهتمت بفتح الطرق الجديدة و وسائل النقل و المرور السريع و النقل. و كذلك اهتمت بالبريد و خطوط التلفونات و قامت بتأمين الأجهزة الجديدة و السريعة لهذا المجال.



الطرق و المواصلات

## النقل

### التدريب:

ثمة العديد من وسائل النقل, فأنت أيضاً أيها التلميذ العزيز أذكر هنا (أربعة) وسائل للنقل.

١-.....

٢-.....

٣-.....

٤-.....

### نشاط:

ظهر في هذا العصر الكثير من وسائل المواصلات الجديدة. ارسم أيها التلميذ العزيز صورة وسيلتين جديدتين.

٤- **خدمات ثقافية:** أحد أهداف حكومة إقليم كوردستان هو تنشئة المواطن المثقف بترسيخ الانتماء الوطني لديه.

ولهذا الغرض أعدت العديد من المجلات و الصحف المتنوعة في جميع مجالات الحياة، مع فتح معرض الكتب إضافة الى الاهتمام بفتح محطات الراديو والتلفزيون وقنوات الأعلام الأخرى والمتاحف التراثية والتأريخية، بالإضافة الى الاهتمام بفتح قاعات للفن التشكيلي و الاهتمام بالآثار.



صورة مكتبة

### نشاط:

أيها المعلم العزيز: اطلب من التلاميذ أن يروا قصة من القصص التي قرأوها في مجلة للأطفال في الصف.

### التدريب:

أيها التلميذ العزيز: هناك العشرات من صحف و مجلات الأطفال اكتب هنا أسماء (ثلاث) مجلات و صحف:

..... ١-

..... ٢-

..... ٣-



صورة مجلة للأطفال

### نشاط:

أيها المعلم العزيز: أيمكنك بالتعاون مع إدارة المدرسة أن تنظم زيارة للتلاميذ الى مؤسسة أو مؤسسات خدمية؟

٥- خدمات اقتصادية: ان الدولة تسعى من أجل رفع المستوى المعيشي للمواطنين و ذلك بتوفير فرصة العمل لهم اضافة الى الأهتمام بالمنتجات الوطنية واعداد المستلزمات الأخرى للمواطنين، مثل الوكيل العام والجمعيات التعاونية و قطاع استيراد و تصدير الأمتعة والأخرى.





مصرف الأقليم (بنك)

### سؤال:

أختر الجواب الصحيح: أسس بنك الأقليم لـ :

- ١- تأمين مستلزمات المدارس.
- ٢- تأمين (نقود) (الأموال) للرواتب و المشاريع.

### نشاط:

- ١- الصق بدفترك صورة لأعمار كوردستان.
- ٢- اكتب في دفترك قصة سمعتها من برنامج تلفزيوني.

## سؤال:

املأ الفراغات الآتية بكلمات مناسبة.

- أ- الدولة أعتبرت ..... العدو الأول في المجتمع.
- ب- يجب أن نضيف التعليمات الصحية و نحمي أنفسنا من ..... و  
نتبع في المستشفى..... و .....
- ج- ان مجال النقل و المواصلات يظهر وجهاً .....  
د- ان المواطن المخلص يؤمن ..... و ..... و .....
- هـ- ان الثقافة وسيلة هامة لـ ..... و ..... والمواطن العاقل في  
المجتمع.
- و- هيأت الدولة ..... لجميع المواطنين.
- ز- ان الدولة سعت للقضاء على .....

## الفصل الثالث الأعياد والمناسبات

**أولاً: الأعياد والمناسبات**

### **١- عيد نوروز (٢١) آذار:**

هو أول يوم لرأس السنة الكوردية، انه عيد كوردي قديم يقوم الكورد بأحيائه في كل أرجاء كوردستان.



صورة احتفال بعيد نوروز

### **٢- اتفاقية (١١) آذار عام ١٩٧٠:**

هي حصيلة الثورة الكوردية المعاصرة، والتي هي ثورة أيلول التي اندلعت في (١١) أيلول ١٩٦١. وكان البيان يتكون من (١٥) نقطة رئيسية من أهمها تكون اللغة الكوردية لغة رسمية مع اللغة العربية في المناطق التي غالبية سكانها من الكورد و مشاركة الكورد في إدارة الدولة و وضع الجدول التطوير البنية التحتية الثقافية والتربوية في كوردستان إضافة الى تعديل الدستور..... الخ.

## معلومات :

**أيها التلميذ العزيز:** في كردستان الحبيبة نعيش العديد من القوميات والديانات الأخرى، لهم أعياد مناسبات خاصة بهم، من ضمن تلك الأعياد والمناسبات الدينية للأقليات القومية والدينية.

١- أول نيسان عيد رأس السنة البابلية و الآشورية.

٢- (١١) نيسان عيد القيامة للأخوة المسيحيين.

٣- (٧) كانون الثاني عيد للأخوة الأيزديين.

## ٣- انتفاضة شعب كردستان في (٥) آذار ١٩٩١:

بعد ظلم و استبداد تجاوز كل الحدود و تدمير ٤٥٠٠ قرية و بلدة في كردستان وانقله (١٨٢) ألف انسان كوردي بريء نساء و أطفالا و شيوخ و قصف مدينة ( حلبجة) بالأسلحة الكيماوية و أنفلة (٨٠٠٠) من البارزانيين و نفى الكورد الفيلين... الخ.

دون مراعاة أي قيمة انسانية من قبل النظام العراقي السابق، فان جماهير كردستان انتفضت يوجه الأجهزة القمعية للنظام في الخامس من آذار ١٩٩١ في جميع أنحاء اقليم كردستان وقد تحررت كافة كردستان العراق خلال أيام.



## فقط للعلم

### يوميات تحرير مدن كردستان:

- ١- (٥) آذار عام ١٩٩١ بدء انتفاضة شعب كردستان من مدينة رانية (بوابة الأنفاضة).
- ٢- (٧) آذار يوم تحرير مدينة السليمانية.
- ٣- (٩) آذار عام ١٩٩١ انتفاضة و تحرير مدن شقلاوه و كويسنجق و درينديخان.
- ٤- (١١) آذار عام ١٩٩١ تحرير مدينة أربيل عاصمة اقليم كردستان.
- ٥- (١٤) آذار عام ١٩٩١ انتفاضة دهوك و أميدي.
- ٦- (٢٠) آذار عام ١٩٩١ بلوغ قمة الأنفاضة بتحرير كركوك.



الانتفاضة

#### ٤- انتخابات برلمان كوردستان في (١٩) آيار عام ١٩٩٢م.

بعد الانتفاضة المجيدة لشعب كوردستان في (٥) آذار عام ١٩٩١م وهزيمة النظام و سحب مؤسساته من كوردستان, وفي أعقاب هذا الفراغ الذي حدث, قررت قيادة الجبهة الكوردستانية, اجراء انتخابات في (١٩) آيار ١٩٩١ لبرلمان كوردستان, فقد توجهت جماهير كوردستان الى صناديق الاقتراع السري فتشكل برلمان كوردستان.

#### الانتخابات



ان الانتخابات هي إحدى المكاسب العظيمة لشعب كوردستان, حيث انه بعد عشرات السنين من الثورات و التضحيات أصبحت أول عملية مورست بحرية و ديمقراطية لأنظير لها بشهادة المراقبين الأجانب, في هذه المنطقة.

كانت الانتخابات بداية تجربة ديمقراطية في كردستان و التي حققت أول برلمان  
كوردستاني منتخب.

#### ٥- تأسيس حكومة اقليم كردستان في (٤) تموز ١٩٩٢م:

بعد تشكيل برلمان كردستان وفي أول اجتماع له في ١٩٩٢/٦/٤, تشكلت  
أول حكومة لأقليم كردستان في ١٩٩٢/٧/٤, بعد سحب الحكومة المركزية  
لمؤسساتها من الأقليم.

ان تشكيل حكومة اقليم كردستان هو مكسب عظيم لشعب  
كوردستان. ففي تاريخ حركة تحررنا القومي سنحت لأول مرة الفرصة للكورد  
بأن يثبت أنه لا يقل عن الأمم الأخرى عزما وقدرة لإدارة نفسه على أرضه.

#### ٦- اعلان النظام الفدرالي لكوردستان في (٢٤) تشرين الأول ١٩٩٢م:

ان الشعب الكوردي ببقية الشعوب له الحق في تقرير مصيره ويكون له  
كيان مثل (الترك، العرب، الفرس).  
ان مصالح الدول الكبرى أدت الى حرماننا من حقوقنا لعقود.

#### سؤال:

لماذا يجب أن يكون للكورد كيان خاص؟  
أعلن البرلمان كوردستان في ١٩٩٢/١٠/٤ قرار الفدرالية للأقليم كوردستان.  
ان هذا النظام (الفدرالية) يحدد العلاقات (السياسة- القانونية-  
الأقتصادية) لأقليم كوردستان مع السلطة المركزية على أساس الاتحاد  
الفدرالي الأختياري في اطار العراق.





## ٧- عيد الجمهورية العراقية (١٤) تموز ١٩٥٨ م :

كانت ثورة (١٤) تموز عام ١٩٥٨م حدثاً سياسياً مهماً في تأريخ المنطقة والعراق. وانتهى نظام الملكي، وقد اندلعت هذه الثورة بدعم ومساندة جميع مكونات الشعب. اعلن في الدستور المؤقت والتي تشير المادة الثالثة منه الى أن (الكورد والعرب شركاء في هذا الوطن) أي العراق.

### ثانياً: الاعياد الدينية والعطل الرسمية

- ١- عيد رمضان (٢١ و٣) من شهر شوال بمناسبة انتهاء شهر رمضان.
- ٢- عيد الاضحى (١٠ و١١ و١٢ و١٣) من شهر ذي الحجة بمناسبة انتهاء مراسيم الحج ووقوف الحجاج على جبل عرفة.
- ٣- ذكرى مناسبة رأس السنة الميلادية اليوم الاول من شهر كانون الثاني (ذكرى ميلاد المسيح عليه السلام).
- ٤- ذكرى رأس السنة الهجرية في الاول من شهر محرم وذكرى هجرة الرسول (ﷺ) من مكة الى المدينة (يثرب).
- ٥- ذكرى عاشوراء في العاشر من شهر محرم ذكرى استشهاد الامام الحسين.
- ٦- ذكرى المولد النبوي الشريف الثاني عشر من شهر ربيع الاول.



## الفصل الرابع

### القومية

**القومية:** مجموعة من الناس يعيشون في وطن ولهم شعور بالانتماء المشترك ولهم لغة وتاريخ ومصير مشترك مثل (القومية الكردية والقومية العربية والقومية التركية).... الخ.

#### مقومات القومية:

##### ١- الوطن المشترك:

من أهم مقومات القومية، لا تقوم لقومية قائمة من دون أرض ووطن. ان أرض كوردستان والتي عاش عليها آباؤنا وأجدادنا منذ آلاف السنين وناضلوا لأجلها هي أساس مهم لتوحيد أبناء شعب كوردستان.

##### ٢- اللغة المشتركة:

هي وسيلة للتفاهم وتبادل الآراء بين أبناء القومية الواحدة ولكل قومية لغتها. ان اللغة الكوردية من مقومات تقوية الشعور الوطني القومية. لهذا السبب حاول المحتلون دوما محاربة هذه اللغة ومنعها، ومن أمثلتها سياسات (التتريك) و (التعريب) و (التفريس)، وقد فشلت هذه السياسات لأن الكورد قاوموها وحافظوا على سلامة لغتهم.

##### ٣- التاريخ المشترك:

هو الآخر من مقومات القومية لأن للكورد تاريخ قديم على أرضه وفي هذا السبيل ناضل الكورد و دافعوا عن أرضهم وقدموا.

آلاف الشهداء ... هذا التاريخ مبعث فخر لنا لذا يجب الاهتمام بالثقافة  
التاريخية وصيانتها.

#### ٤ = التقاليد المشتركة:

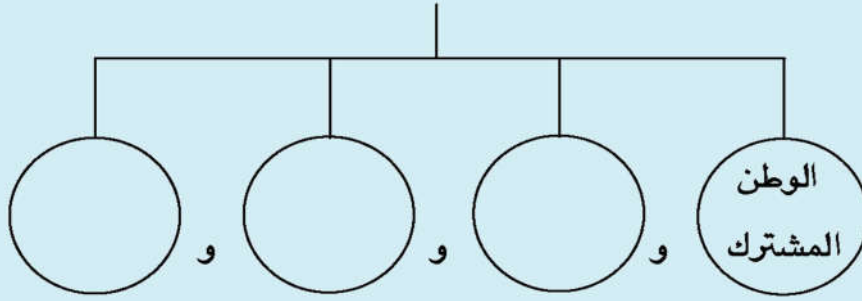
لكل شعب سماته وعاداته وتقاليده وأزياءه الشعبية المميزة. لقد عرف  
الكورد بالشجاعة والأقدام والصدق والتضحية... وصفات أخرى هي جزء  
من مدينة وثقافة هذا الشعب.



الزي الكوردي

## نشاط

ان مقومات القومية هي



## التدريب

ان التاريخ مهم للشعوب.

أخي المعلم: امنح التلاميذ مجالا لمناقشة هذا الموضوع.

## الفصل الخامس

### البيئة والتلوث

#### تعريف البيئة:

هي جميع المكونات الحية وغير الحية، وكل ما هو موجود حولنا، سواء كان على سطح القشرة الأرضية أو في باطنها. وبعبارة أخرى هي المحيط الجغرافي والاجتماعي الذي يحيط بالانسان والاحياء الاخرى، أي مكان والمناخ الذي نعيش فيه والذي يؤثر على حياتنا ويعد الانسان جزءا من البيئة لا يمكن الانفصال عنها. وغالبا ما تتعرض البيئة للتلوث بسبب الدخان ومخلفات المصانع.

#### والبيئة نوعان:

##### أ- البيئة الطبيعية:

عبارة عن البيئة التي يولد فيها الانسان ويقضي فيها حياته , أي انها تشمل كل المظاهر و الظواهر الطبيعية التي تحيط بحياة الانسان كالمناخ والامطار ونوع الارض والتضاريس الارضية والحرارة والبرودة.



منظر للطبيعة



### تمرين

**عزيزي الطالب:** بيئتنا الاولى جميعاً هي البيت, وبيئتنا الثانية هي

المدرسة ما هو الشيء الجيد للمحافظة على نظافة بيئة المدرسة؟

١- .....

٢- .....

٣- .....

### ب- البيئة الاجتماعية:

يقصد بها البيئة التي يعيش فيها الانسان مع الاخرين المحيطين به مثل بيئة العائلة او المدرسة وبيئة الانسان في المحلة التي يعيش فيها او القرية التي يقضي فيها حياته، فيتعرف فيها على العواطف والمحبة والتعاون مع الاشخاص الآخرين وبناء علاقات الاجتماعية.

### تمرين

تتكون البيئة الاجتماعية من العائلة و المحلة و

..... و .....

### نشاط:

عزيزي المعلم: اختر مجموعة من الطلاب ليتحدثوا عن بيئة:

١- المحلة و تأثير هذه البيئة من حيث:

أ- الجوانب الايجابية.

ب- الجوانب السلبية.

### سؤال

ماذا نعمل لتطوير بيئة المحلة.



معمل يعلو منه الدخان الكثيف

## الفصل السادس

### حقوق الانسان وحقوق الطفل

#### ١- حقوق الانسان:

حاول الانسان منذ القدم الحصول على حقوقه وناضل باستمرار للتخلص من الجوع والمرض والامية والاضطهاد ولذلك اهتمت المؤسسات والمنظمات الدولية بالإنسان حتى تم نشر لائحة حقوق الانسان في ١٠/١٢/١٩٤٨ بمدينة باريس، وتتألف هذه اللائحة من (٣٠) بنداً عن حقوق وحرقات الإنسان.

#### أهم حريات الإنسان:

- ١- الحرية الشخصية: يولد الانسان حراً ويعيش بحرية، ومعنى ذلك ان كل شخص حر في السفر والعمل والسكن والتعبير عن رأيه والتفكير، ويعتبر هذا اساساً لكل الحريات.
- ٢- حرية التملك: الانسان حر في تملك كل شيء، وله الحق في استعمال ما يملك حسب رغبته، ولا يجوز حجز أمواله او الاستيلاء عليها، كما انه يمنع اخذ أموال و ثروات الناس الا بحسب القوانين.
- ٣- حرية العمل: لكل شخص الحق في الحصول على عمل او مهنة.

#### نشاط:

**عزيزي الطالب:** من حقا ان تتعلم وان تقرأ، ان تشترك في النشاطات. ولكن توجد بعض الواجبات عليك القيام بها: حضر، بالتعاون مع زملائك قائمة بالواجبات.

### نشاط:

**عزيزي الطالب:** بالتعاون مع زملائك حاول ان تحل التمارين التالية:

- ١- للطالب الحق في ان يدرس ويتعلم .....
- ٢- كل طفل في عمر ست سنوات له الحق في ان .....
- ٣- ضمان حق التعليم لأطفال كوردستان واجب حكومة.....



ملعب للأطفال (مدينة الألعاب)

### تمرين:

**عزيزي المعلم:** كوّن مجموعتين من الطلاب اطلب منهما إعطاء أمثلة عن مفهومي الحقوق والواجبات.



٤- حرية العقيدة وعقد الاجتماعات وتأسيس المنظمات: للانسان الحرية الكاملة في التعبير عن عقيدته ونشرها في وسائل الاعلام، كما ان الناس احرار في عقد الاجتماعات الخاصة والعامة شريطة ان لا تلحق الاذى بالآخرين والملحة العامة.

٥- حرية التعلم: لكل شخص الحق في ان يدرس منذ الطفولة ويتعلم القراءة والكتابة، وله الحق في استمراره بالدراسة في كافة المراحل.

٦- حرية العقيدة الدينية: لكل شخص الحرية في اختيار العقيدة الدينية التي تعتقده.

٧- المساواة والعدالة: المساواة تعني ان أعضاء المجتمع كلهم سواسية في الحقوق والواجبات أمام القانون والعدالة والوظائف العامة ولا توجد أية تمييز بينهم بسبب الجنس أو الدين او اللون او الثورة.

### نشاط:

**أيها الطالب العزيز:** أنت (حر) في توجيهك أسئلة عن الدرس الى معلمك المحترم المعلم (حر) في توجيه الأسئلة.

### الجواب المناسب..

كلنا (أحرار) في المحافظة على قيم الحياة المتبعة.  
اكتب بعض الأسطر عن معنى (الحرية) بالتعاون مع زملائك وأفراد عائلتك وحضره للدرس القادم. ناقش ما كتبتة مع معلمك.

## أنواع المساواة:

١- المساواة أمام القانون: جميع أعضاء المجتمع متساوون أمام القانون ويسري القانون على الجميع دون تمييز.

### تمرين

من يخرق القانون؟ (تحدث عن ذلك)

٢- المساواة أمام العدالة: تسرى أحكام المحاكم وقراراتها على جميع أعضاء المجتمع دون تمييز في الجنس والدين والثروة.

٣- المساواة في العمل: لكل شخص الحق في العمل ولا يوجد أى تمييز بين شخصين الا بسبب القدرة والإمكانيات والشهادة العملية.

٤- المساواة في الواجبات: الكل متساوون أمام القانون في الواجبات والكل متساوون في دفع الضرائب وخدمة العلم.

### نشاط:

**عزيزي الطالب:** أنت لك حقوق و عليك واجبات ما هي واجباتك:

اكتبها في الحقول الفارغة التالية:

### نشاط:

عزيزي الطالب: الدين الإسلامي الحنيف مبني على أساس (المساواة) وكل الأديان السماوية تدعو للمساواة: والمعلم ينظر الى جميع الطلاب بعين المساواة: والآن اجب عن هذه الأسئلة:

- ١- كل الطلبة ..... في حق التعلم.
- ٢- ينظر المعلم بـ ..... الى طلابه.
- ٣- المساواة هي الأساس الصحيح لـ .....
- ٤- بني الدين الإسلامي الحنيف على أساس .....
- ٥- كل أعضاء المجتمع سواسية أمام .....

### تمرين:

ماذا علينا ان نعمل في المجتمعات المتعددة والاجناس والمذاهب؟

(x) (y)

- ١- نعادى بعضنا البعض.
- ٢- نعيش سوية, نتحابب, نحترم بعضنا البعض.

### ٢- حقوق الطفل:

تعريف الطفل: هو من تكون سنه أقل من (١٨) سنة، وتعتبر شريحة مهمة في المجتمع وسندا قويا له والجيل المستقبلي للوطن والشعب. أزد عمره (٦) سنوات، سجله والده في المدرسة لأن التعلم حق لكل طفل.

## عيد الطفل:

يعتبر ٦/١ من كل سنة عيداً عالمياً للطفل، واطفال كوردستان هم جزء من الاطفال العالم، لذا يحتفلون سنوياً بهذه المناسبة لان الاطفال هم اجيال المستقبل ويناضلون من اجل تقدم ورفاهية شعوبهم و اوطانهم، وسوف يصبحون في المستقبل قادة لشعوبهم وعلماء واساتذته واطباء ومهندسين اذكفاء واكفاء لكي يشاركوا في عملية بناء الوطن.

## حقوق الطفل:

### أدناه قسم من حقوق الطفل:

١- لكل طفل الحق في ان تكون له هويته الخاصة التي تحمل اسم وطنه وقوميته.



الاحتفالات بعيد الأطفال



٢- الآباء والأمهات مسئولون عن تربية أطفالهم, وعلى أجهزة الدولة تشجيعهم لكي يضمنوا لهم تربية حقيقية.



الأب والأم وأطفالهما

- ٣- على الحكومة ان تهتم بالجانب التربوي والعلمي والثقافي وعليها ان تضمن التعليم الإلزامي والمجاني في المرحلة الأساس على أقل تقدير.
- ٤- يجب على الحكومة ان تؤمن الخدمات الصحية للأطفال أي عليها الاهتمام بالجانب العقلي والنفسي للأطفال والصحة العامة.



مركز صحي أثناء معالجة الأطفال

### تمرين

لماذا يجب على الحكومة ان تؤمن الخدمات الصحية للأطفال.

٥- يجب تخصيص الأماكن والأوقات الخاصة بألعاب الأطفال ومشاركتهم في النشاطات الثقافية والفنية والاهتمام بالمسرح في المدارس وكذلك بمادتي الرياضة والرسم.



مجموعة من الأطفال يغنون أو يقدمون مسرحية

- ٦- يجب على الحكومة أبعاد الأطفال عن التصرفات والأعمال المضرة.
- ٧- للطفل حق التعبير عن أفكاره وآرائه بكل حرية ويجب احترام هذا الرأي.
- ٨- يجب على الحكومة تعويض الأطفال المحرومين من حنان الأبوة وتهيئة المكان المناسب لهم وتأمين ملابسهم وحاجاتهم الحياتية الأخرى.